



Gruplar ve Rollerimiz

Adı :
Soyadı :

1. I. Hak ve sorumluluk, birbirlerini tamamlayan kavramlardır.
II. Farklı grup ya da kurumlarda farklı hak ve sorumluluklarımız olabilir.
III. Başkalarının sahip olduğu haklara saygı göstermek, sorumluluklarımız arasında yer alır.
- Hak ve sorumluluk kavramları ile ilgili yukarıda verilen bilgilerden hangileri doğrudur?**

- A) I ve II
B) I ve III
C) II ve III
D) I, II ve III

2.

Grup/Kurum	Rol
Sınıf	Öğrenci
Aile	Abla
Voleybol takımı	Yönetmen
Tiyatro	Takım kaptanı

Tablodaki hatanın giderilmesi için hangi rollerin yer değiştirmesi gerekir?

- A) Abla - Öğrenci
B) Öğrenci - Yönetmen
C) Yönetmen - Takım kaptanı
D) Takım kaptanı - Abla

3. Okulun futbol takımında yer alan bir öğrencinin sorumlulukları arasında aşağıdakilerden hangisi yoktur?

- A) Antrenmanlara dilediği zaman katılma
B) Kendisine verilen görevleri yapma
C) Takımı için özveride bulunma
D) İş birliği içerisinde çalışma

4. Bir grup üyesinin farklı zamanlarda farklı rol ve sorumlulukları olabilir.

Aşağıdakilerden hangisi bu açıklamaya uygun bir örnek değildir?

- A) 5. sınıf öğrencisi Buğra'nın okulun futbol kulübünde yer alması, aynı zamanda sınıf başkanı olması
B) Müzik kulübünde olan Ayşe'nin evde Sıla'nın ablası olması
C) Ortaokul öğrencisi Lara'nın derslerinde çok başarılı olması
D) Okul Müdürü Ahmet Bey'in boş zamanlarında TEMA Vakfında görev alması

5. Rol, grup ya da kurumlarda üzerimize düşen görevdir. Rollerin bazıları doğuştan kazanılır. Bu rolleri seçme imkânımız yoktur.

Buna göre aşağıdakilerden hangisi doğuştan sahip olunan roller arasında gösterilemez?

- A) Evlat
B) Kardeş
C) Öğretmen
D) Torun

6. Aile ortamında bütün bireylerin sorumlulukları vardır.



Aşağıdakilerden hangisi çocukların ailelerine karşı sorumluluklarından biri değildir?

- A) Odasını temiz tutmak
B) Eve zamanında gelmek
C) Kardeşleriyle iyi geçinmek
D) Çalışarak aile bütçesine katkıda bulunmak


7. Sosyal bilgiler dersinde proje ödevi hazırlayan Ali ve arkadaşları, aralarında iş bölümü yaparak çalışmalarına başlarlar. Yapılan görev dağılımına göre sunum için gerekli görselleri toplama görevi Merve'ye aittir. Fakat Merve, gerekli görselleri zamanında getirmediği için ödev zamanında teslim edilememiştir.

Buna göre aşağıdaki yargılardan hangisine ulaşamaz?

- A) Gruplarda iş birliği önemlidir.
B) Grup çalışmalarında başarıya ulaşmak zordur.
C) Gruplarda sorumlulukların yerine getirilmemesi, sorunların yaşanmasına neden olabilir.
D) Gruplarda dayanışma içinde çalışılmalıdır.

8.

Ben, dünyaca ünlü futbolcu Messi. Takımımınla birlikte büyük başarılarımıza imza attık. Takımım ve ben, üzerimize düşen görev ve sorumluluklarımızı yerine getiriyoruz. Bu da başarımızı olumlu etkiliyor.



Bu açıklamaya göre ünlü futbolcunun ve takımının başarılı olmasının temel nedeni aşağıdakilerden hangisidir?

- A) Bireysel yeteneklerinin olması
B) Bireysel başarıyı önemsemeleri
C) Takım çalışmasına önem vermeleri
D) Başarılı futbolcuların takımda yer alması

9. Burak, okulunda sınıf başkanlığı yapmaktadır. Aynı zamanda okulun basketbol takımında yer almaktadır. Eve geldiğinde kardeşine ödev konusunda, annesine de temizlikte yardımcı olmaktadır.

Buna göre Burak'ın görev ve sorumlulukları ile ilgili aşağıdakilerden hangisi doğrudur?

- A) Burak, bazen sorumluluklarını aksatmaktadır.
B) Burak'ın farklı görev ve sorumlulukları vardır.
C) Burak'ın temizlikte annesine yardım etmesi, bir haklıdır.
D) Çocukların birden fazla sorumluluğu olmamalıdır.

10.



Buna göre Batuhan ile ilgili,

- I. İçinde bulunduğu gruplara göre rolleri değişmiştir.
II. Üstlendiği rollerin bazılarını doğuştan elde etmiştir.
III. Bazı rollerini ilgi ve yeteneklerine göre elde etmiştir.

yargılarından hangileri söylenebilir?

- A) I ve II
B) I ve III
C) II ve III
D) I, II ve III



1. Bir toplumda nesilden nesile aktarılan gelenek, görenek, inanışlar ve sanat varlıklarının tümüne “kültür” denir. Millî kültürü oluşturan farklı öğeler vardır. Bu öğeler, bizi biz yapan değerlerdir.

Aşağıdakilerden hangisi millî kültürümüzü oluşturan öğelerden biri değildir?

- A) Halk oyunları B) Düğünler
C) Bayramlar D) Basketbol

2.

GAZETE

Manisa’da düzenlenen Nevruz Bayramı kutlamalarında vatandaşlara çeşitli renklere boyanmış Nevruz yumurtaları ve Nevruz pilavı ikram edildi. Lokma hayrı yapılarak fidan dağıtımı gerçekleştirildi.

Bu haberde ülkemizin hangi özelliği vurgulanmıştır?

- A) Dinî B) Siyasî
C) Kültürel D) Ekonomik

3. Osmanlı mutfağının en önemli tatlıları arasında yer alan lokum, günümüzde de tüketilmektedir.

Lokumun mutfak kültürümüzdeki yeri ile ilgili aşağıdaki yargılardan hangisi doğrudur?

- A) Zamanla unutulmuştur.
B) Nesilden nesile aktarılmıştır.
C) Zamanla değişime uğramıştır.
D) Farklı kültürlerden etkilenmiştir.

4. Türkiye ve dünya genelinde oynanan bazı geleneksel oyunlar aşağıda verilmiştir.

Üçtaş	Türkmenistan, Hindistan
İstöp	Romanya, İtalya, Kolombiya
Yakar top	Özbekistan, ABD
Köşe kapmaca	Kanada
Mendil kapmaca	KKTC, İspanya

Bu tablodan hareketle,

- I. Farklı kültürlerde, aynı oyunlar yer almaktadır.
II. Tüm oyunların çıkış kaynağı Türk kültürüdür.
III. En eğlenceli oyun istöptür.

yargılarından hangilerine ulaşılabilir?

- A) Yalnız I B) I ve II
C) I ve III D) II ve III

5. İzmir’de yaşayan Meltem, yaz tatili için Trabzon’a gitmiş; bu bölgenin kültürel özelliklerini kendi yaşadığı bölgenin kültürel özellikleriyle karşılaştırmıştır.

Buna göre Meltem, iki şehir arasında aşağıdaki unsurlardan hangisinin farklı olduğunu söyleyemez?

- A) Halk oyunları
B) Yemekler
C) Büyüklere saygı
D) Yöresel kıyafetler

6. Kosova'da yeme içme ve ev mimarisi gibi birçok alanda Türk kültürünün izleri görülmektedir. Türk yemek kültürüne ait dolma, sarma, pide, kebab, baklava, kadayıf, helva, boza, şerbet, kahve, salep gibi yiyecek ve içecekler Kosova ve tüm Balkan kültürüne geçmiştir. Ev mimarisinde geleneksel Türk mimarisinde olduğu gibi mutfak salona açılmakta, kadın ve erkeğin oturduğu odalar ayrı tutulmakta ve komşunun bahçesine açılan küçük bir kapı bulunmaktadır.

Bu bilgilere göre,

- I. Türk kültürü, Kosova kültürünü her alanda etkilemiştir.
 II. Türk kültüründen en fazla etkilenen Balkan devleti, Kosova'dır.
 III. Türkler ile Balkan milletleri arasında kültürel etkileşim yaşanmıştır.

yargılarından hangilerine ulaşılabilir?

- A) Yalnız III B) I ve II C) I ve III D) II ve III

7. Aşağıdaki yargılar "Doğru (D)-Yanlış (Y)" olarak değerlendirilecektir.

	D/Y
1. Her yörenin kıyafetleri, halk oyunları, yemek kültürleri farklılık gösterebilir.	
2. Ülkemizin her yöresinde kendine özgü kültürel öğeler vardır.	
3. Milletçe kutladığımız bayramlar, kültürel değerlerimiz arasında yer alır.	
4. Ülkemizde görülen kültürel farklılıklar, kültürel çatışmalara neden olmaktadır.	

Bu yargılar aşağıdakilerin hangisinde doğru değerlendirilmiştir?

- A)

1.	D
2.	Y
3.	D
4.	Y

 B)

1.	D
2.	D
3.	D
4.	Y

 C)

1.	Y
2.	Y
3.	D
4.	D

 D)

1.	Y
2.	D
3.	Y
4.	D

- 8.



I



II



III

Numaralanmış görsellerden hangileri KKTC ve Türk kültürü için ortak öğeler arasında yer alır?

- A) I ve II B) I ve III C) II ve III D) I, II ve III



1. Toplumsal birlikteliğin oluşmasında dayanışma son derece önemlidir.

Buna göre;

- I. sadaka taşları sayesinde ihtiyaç sahiplerine ulaşılması,
- II. köy halkının imece usulü ile köye cami yaptırması,
- III. afet bölgelerine ülkemizin farklı bölgelerinden yardım paketlerinin gönderilmesi

örneklerinden hangileri toplumsal dayanışmaya örnek gösterilebilir?

- A) Yalnız I B) I ve II
C) II ve III D) I, II ve III

2. “El eli yıkar, iki el de yüzü.” atasözü aşağıdaki kavramlardan hangisi ile ilişkilendirilebilir?

- A) Din B) Dayanışma
C) Gelenek D) Çalışma

- 3.



Görselleri verilen kuruluşlarla ilgili aşağıdakilerden hangisi söylenemez?

- A) İnsanlara destek olmaya çalışırlar.
- B) Yardımlaşma ile ilgili kuruluşlardır.
- C) Toplumda dayanışma ruhunu güçlendirirler.
- D) Her ikisi de Osmanlı Dönemi'nde kurulmuştur.

- 4.

Osmanlı Dönemi'nde şehirlerin belirli noktalarında sadaka taşları bulunurdu. Sadaka taşları, cami avlularının en kuytu köşesine konulurdu. İmkânı olan insanlar, oyuğa bıraktıkları sadakalarla yoksulları incitmeden onlara el uzatma imkânı elde ederlerdi.

Bu uygulama ile Osmanlı Devleti'nde aşağıdakilerden hangisinin sağlanmaya çalışıldığı söylenebilir?

- A) Yardımlaşma B) Eşitlik
C) Dürüstlük D) Misafirperverlik

5. Sadaka taşı, Selçuklu ve Osmanlı dönemlerinde daha çok çarşı, hastane, cami vb. yerlerde ihtiyaç sahiplerinin kolayca alabilmeleri için altın ve para bırakılan özel bir yapıdır. İhtiyaç sahipleri, sadaka taşına bırakılanları almak için gecenin geç saatini bekleyerek bu taşın yanına gelirlerdi. Bu taştan, ihtiyacı kadar olan parayı alarak sadakayı bırakana kalpten dua ederlerdi. Yapılan bu yardımlaşma sayesinde ihtiyaç sahibi kişiler incinmemiş olur ve yapılan hayır da amacına ulaşırdı.

Bu bilgilere göre,

- I. Yardımlaşma ve dayanışma örneği sergilenmiştir.
- II. İhtiyaç sahibi insanların duygularına dikkat edilmiştir.
- III. Sadaka taşları, mimari yapıların yanına inşa edilmiştir.

yargılarından hangilerine ulaşılabilir?

- A) Yalnız I B) I ve II
C) II ve III D) I, II ve III

6.

Millî Mücadele Dönemi'nde Başkomutan Mustafa Kemal tarafından Tekâlîf-i Milliye Emirleri yayımlandı. Mustafa Kemal bu emirler ile ordunun yiyecek, giyecek, araç gereç, silah, cephane gibi ihtiyaçlarını halktan karışlamak istedi. Türk milleti, yaşadığı tüm zorluklara rağmen ordusunun yanında yer aldı. Vatanın düşmandan kurtarılması için varını yoğunu ortaya koydu.

Buna göre Türk milleti;

- I. yardımlaşma,
- II. dayanışma,
- III. fedakârlık

tutum ve davranışlarından hangilerini sergilemiştir?

- A) I ve II B) I ve III
C) II ve III D) I, II ve III

7.

Türkiye'de Sosyal Yardımlaşma ve Dayanışma İçin Faaliyet Gösteren Kurum ve Kuruluşlar



Bu şemada numaralanmış yerlere aşağıdakilerden hangisi getirilmelidir?

- | | I | II |
|----|----------------------|--------------|
| A) | TEMA | Huzurevleri |
| B) | AFAD | Türk Kızılay |
| C) | LÖSEV | Darülaceze |
| D) | Darüşşafaka Cemiyeti | AÇEV |

8.

Türklerin geçmişten günümüze taşıdıkları en önemli özelliklerinden biri yardımlaşmaya önem vermeleridir. İslamiyet'in kabulü ile birlikte Türklerin bu özelliği daha da güçlenmiştir. Hz. Muhammed'in (s.a.v.) "Komşusu aç iken tok yatan bizden değildir." sözünü atalarımız temel ilke edinerek birçok çalışmaya imza atmışlardır.

Buna göre metindeki altı çizili bölümle;

- I. sadaka taşlarının yapılması,
- II. hayır amaçlı vakıfların kurulması,
- III. yeni yerlerin fethedilmesi

çalışmalarından hangileri ilişkilendirilebilir?

- A) I ve II B) I ve III
C) II ve III D) I, II ve III

9.

Konya'da Selçuklu Değerler Eğitimi Projesi (SEDEP) kapsamında okullarda İtimat Bakaliyesi uygulaması başlatıldı. Uygulama ile öğrencilere doğruluk ve cömertlik değerlerinin öğretilmesi amaçlanıyor. Uygulamada öğrenciler, dürüstlük rafında fiyatı yazan ürünü alıp ücretini bırakıyorlar. Kendi aldığı ürün dışında bir başkasının almasını istediği ürün varsa onu da alıp ücretini bırakıyor. Bu aldığı ürünü, ihtiyacı olan bir kimsenin alması için yardımseverlik rafına bırakıyor. Yardımseverlik rafındaki ürünü ise ihtiyacı olan bir öğrenci parasını ödemedi alabiliyor.

(Genel ağdan düzenlenmiştir.)

Bu metinden hareketle,

- I. Yardımlaşma ve dayanışma örneği sergilenmektedir.
- II. Ülkemizde yardımlaşma en çok Konya ilinde yapılmaktadır.
- III. Resmî kurumlar, yardımlaşma faaliyetlerinin yürütüldüğü yerlerdendir.

yargılarından hangilerine ulaşılabilir?

- A) Yalnız I B) I ve III
C) II ve III D) I, II ve III



1.

Elâzığ ve Malatya'da depremin izleri siliniyor

Elâzığ ile Malatya'da vatandaşların mağduriyetinin en kısa sürede giderilmesi için ilgili bakanlıklar öncülüğünde çalışmalar hızla devam ediyor.



**DEPREMZEDELERE
KIRACI VE EV SAHİBİ
YARDIMI**

**TOPLAM
3 BİN 817 KİŞİYE
26,5 MİLYON
LİRA**

**BÖLGEDE
29 BİN 934
ÇADIR**

**73 BİN 904
YATAK**

**202 BİN 559
BATTANIYE**

**50 BİN 87
SOBA VE ISITICI**

**28 BİN 909
TON KÖMÜR**

**532 TON
ODUN**

**115 BİN 140
GIDA KOLİSİ**

**61 BİN 200
ALIŞVERİŞ
KARTI**

**105 BİN 967
KIYAFET**

**169 BİN 346
PAKET HİJYEN
MALZEMESİ VE
BEBEK BEZİ**

DAĞITILDI.

**ARA VERİLEN EĞİTİM
BAŞLADI**

Eğitim ve öğretime 3 hafta ara verilen Elâzığ'da ders zili 24 Şubat'ta çaldı.

**KIRSALDAKİ
DEPREMZELER
İÇİN KONUT**

Elâzığ'da depremden etkilenen köylerde 1500 ev kurulacak. Evlerin yanı sıra 4-5 büyükbaş hayvanın kalabileceği ahırlar da yapılıyor.



**ÜRETİCİLERE
DESTEK**

Bölgede hayvanlar için **1685 çadır** kuruldu. 185 bin 900 kilogram yem dağıtıldı.



**PSİKOSOSYAL DES-
TEK HİZMETLERİ**

57 bin 758 kişiye psikososyal, rehberlik ve manevi destek hizmeti sunuldu.



**DEPREMZEDELER
İÇİN KONUT**

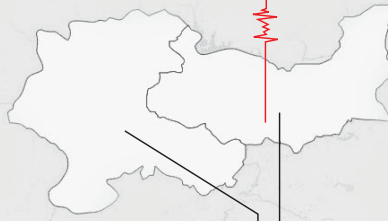
Elâzığ'da **19 bin 800**, Malatya'da **7 bine yakın** konut yapımına ilişkin çalışmaları yürütülüyor.



Bölgede, **43 bin 250 depremzedeye** yemek veriliyor.



6.8
24 OCAK
20.55



MALATYA

ELÂZİĞ



**126 MİLYON
500 BİN LİRA NAKDİ
YARDIM**

Cumhurbaşkanlığı, Bakanlıklar ve AFAD tarafından bölgeye 126,5 milyon lira nakdî yardım gönderildi.



AFAD ve Türk Kızılay tarafından yürütülen kampanyalar

**TOPLAM
145 MİLYON 37 BİN LİRA
BAĞIŞ TOPLANDI.**



**KONTEYNER KENTLER
OLUŞTURULUYOR**

Depremzedelerin geçici barınmasını sağlamak için

- Elâzığ'da **4 bin 806**, Malatya'da **416 konteyner** kuruluyor.

Kaynak: Anadolu Ajansı

Bu infografikten hareketle aşağıdakilerden hangisi söylenemez?

- Depremzedelere yardım ulaştırılmasında farklı kurumlar görev almıştır.
- Bölgede ekonomik faaliyetlerin kesintiye uğramaması için çalışılmıştır.
- Depremzedelerin farklı alanlardaki ihtiyaçları karşılanmıştır.
- Depremzedelere sadece nakdî yardım yapılmıştır.

2.



Bu şemada boş bırakılan yerlere aşağıdakilerden hangisi getirilemez?

- A) Birlik ve beraberliği zedeler.
- B) Bir arada yaşamayı kolaylaştırır.
- C) Sosyal bağları güçlendirir.
- D) İnsanlarla iletişimi artırır.

3.

T.C. Aile ve Sosyal Hizmetler Bakanlığına uygulanan Ulusal Vefa Programı ile vefa destek grupları, 4 ayda yaklaşık 120 bin özel gereksinimli, yaşlı ve kronik hastanın yardımına koştı. Büyük bölümü kadınlardan, sosyal yardım alan mezunlardan ve yaşlı bakımı konusunda sertifika sahibi personel ve gönüllü vatandaşlardan oluşan vefa grupları, yalnız yaşayan vatandaşların ikamet ettiği evlerin temizliği, yemek ihtiyacı, pazar alışverişi, günlük bakım ve diğer temel ihtiyaçlarını karşılıyor. Program kapsamında, ihtiyaç sahibi olup kişisel bakımlarını ve zaruri ihtiyaçlarını karşılayamayan özel gereksinimliler, ağır kronik hastalığı nedeniyle kendi öz bakımını yerine getiremeyenler ile 60 yaş ve üstü vatandaşlar, 81 ilde bu hizmetten yararlanabiliyor.

(Genel ağ haberinden düzenlenmiştir.)

Buna göre Ulusal Vefa Programı ile ilgili aşağıdaki yargılardan hangisine ulaşamaz?

- A) Ülke genelinde uygulanmaktadır.
- B) Ekipler, gönüllü ve uzman kişilerden oluşmaktadır.
- C) Ekipler, zor durumda kalan insanlara karşı duyarlı davranmaktadır.
- D) İhtiyaç sahibi insanların yalnızca beslenme ihtiyaçları karşılanmaktadır.

4.

Manisa'nın Demirci ilçesine bağlı bazı kırsal mahallelerde arpa ve buğday üreticileri, harmanlarını imece usulüyle kaldırıyor. Sabahın erken saatlerinde tarlalarına giden üreticiler, tırpan ve oraklarını biledikten sonra eğimli yapısı nedeniyle biçerdöver kullanamadıkları arazilerine giriyor. Haftalar süren hasat döneminde imece usulü ile çalışan üreticiler, mâni ve türküler eşliğinde ekin biçiyor. Daha sonra traktörlerin römorkunda toplanan ekinler, tarlanın ortasına biriktirildikten sonra patoz makinesinden geçiriliyor. Öğütülen arpalar, hayvanlara kış boyu yem olurken, buğday da değirmenlere gönderilerek un yaptırılıyor.

(Genel ağ haberinden düzenlenmiştir.)

Buna göre imece usulüne katılan insanlar ile ilgili,

- I. İş birliği içerisinde hareket etme yönleri güçlenmektedir.
- II. Birlik ve beraberlik içerisinde hareket etmektedir.
- III. Yardımlaşma ve dayanışmaya önem vermektedir.

yargılarından hangilerine ulaşılabilir?

- A) I ve II
- B) I ve III
- C) II ve III
- D) I, II ve III

5.

5. sınıf öğrencisi Asya, öğretmeni ve arkadaşlarıyla ilçedeki huzurevini ziyaret etmiş ve orada bulunan yaşlılara küçük hediyeler vermişlerdir.

Buna göre öğrencilerle ilgili,

- I. Yaşlılara destek olmuşlardır.
- II. Toplumsal birlikteliğe katkı sağlamışlardır.
- III. Bu faaliyetleriyle maddi kazanç elde etmişlerdir.

yargılarından hangileri söylenebilir?

- A) Yalnız I
- B) I ve II
- C) II ve III
- D) I, II ve III



1.

Baş başa vermeyince taş yerinden oynamaz.



Bu atasözünü aşağıdaki kavramlardan hangisi ile ilişkilendirilir?

- A) Gelenek
- B) Dürüstlük
- C) Dayanışma
- D) Misafirperverlik

2.

Ali, üyesi olduğu sivil toplum kuruluşundaki arkadaşlarıyla insan sağlığı için tehlike oluşturan alışkanlıklar konusunda insanları bilinçlendirmek amacıyla toplantı yapmışlardır. Bu toplantılarda bağımlılık konusunda toplumsal farkındalığı artırmak için afiş, broşür ve kitapçık dağıtımını planlamışlardır.

Buna göre Ali'nin görev aldığı sivil toplum kuruluşu aşağıdakilerden hangisi olabilir?

- A) TEV
- B) TEMA
- C) DARÜLACEZE
- D) YEŞİLAY

3. Çocukların ailesine, okuluna ve çevresine karşı bazı sorumlulukları vardır.

Buna göre aşağıdakilerden hangisi çocukların bu sorumlulukları arasında gösterilemez?

- A) Ortak yaşam alanlarını temiz tutmak
- B) Kaynakları tasarruflu kullanmak
- C) Çöpleri çöp kutusuna atmak
- D) Çalışarak aile bütçesine katkıda bulunmak

4. Yardımlaşma, birbirine yardım etmek ve ortak olarak işlerin üstesinden gelmek demektir. Dayanışma ise birbirimize destek olmak ve sorunları birlikte çözmek demektir.

Buna göre aşağıdakilerden hangisi yardımlaşma ve dayanışmanın önemini anlatan atasözleri arasında gösterilemez?

- A) Birlikten kuvvet doğar.
- B) Yalnız taş duvar olmaz.
- C) Sakla samanı, gelir zamanı.
- D) Bir elin nesi var, iki elin sesi var.

5. Aşevleri; fakir ve muhtaç durumda olan yaşlı, özel gereksinimli ve evinde yemek yapabilecek durumda olmayan vatandaşlara yönelik sıcak yemek hizmeti vermektedir. Selçuklu Devleti ile başlayan, Osmanlı Devleti ile devam eden Türk kültürünün önemli bir ögesi olan aşevi geleneği, günümüzde de yaşatılmaya devam ediyor. Ülkemizin en büyük insanı yardım kuruluşu olan Türk Kızılay, aşevi geleneğini yaşatan kurumların başında geliyor. Türk Kızılay, ülke genelinde 31 aşevi ve 74 mobil ikram aracıyla yıl boyunca sıcak yemek desteği veriyor.

Buna göre aşağıdaki yargılardan hangisine ulaşamaz?

- A) Aşevlerinde ihtiyaç sahiplerine yardım edilmektedir.
- B) Ülkemizdeki tüm aşevlerinin giderleri, devlet tarafından karşılanmaktadır.
- C) Aşevi geleneği, geçmişten günümüze ulaşan bir uygulamadır.
- D) Türk Kızılay, ülkemizde hizmet veren bir yardımlaşma kurumudur.

6.



Yukarıdaki görseller dikkate alındığında gruplar ile ilgili,

- I. Yaşamımız süresince farklı zamanlarda birden fazla grupta yer alabiliriz.
- II. Yer aldığımız grupların en önemlisi oyun grubumuzdur.
- III. Gruplar içerisinde istediğimiz gibi davranabiliriz.

yargılarından hangilerine ulaşılabilir?

- A) Yalnız I B) I ve II C) II ve III D) I, II ve III

7.


Yeni Sekme x +

← → ↻ 🔍 haberler

Uygulamalar »

Beypazarı'nda Asırlık Gelenek: Fişek Bayramı

Ankara'nın Beypazarı ilçesinde yaklaşık 170 yıl öncesine dayandığı ifade edilen "Fişek Bayramı" kutlanıyor. Üç ayların başlangıcı ve Regaip Kandili, her yıl farklı etkinliklere sahne olurken yıllardır süregelen farklı bir gelenek vatandaşlarca yaşatılmaya çalışılıyor. Havanın kararmasıyla çoluk çocuk, genç yaşlı herkes sokak sokak gezerek çeşitli oyunlar oynuyorlar.
(Genel ağ haberinden düzenlenmiştir.)



Buna göre,

- I. "Fişek Bayramı" süreklilik göstermiştir.
- II. Yöresel şenliklere çocuklar da katılım göstermektedir.
- III. Yöresel şenlikler daha çok ramazan ayında yapılır.

yargılarından hangilerine ulaşılabilir?

- A) I ve II B) I ve III C) II ve III D) I, II ve III



1. Göreceli konum; herhangi bir yerin kıtalara, okyanuslara, geçitlere, denizlere, yeryüzü şekillerine, yer altı kaynaklarına ve ulaşım yollarına göre belirlenen konumudur.

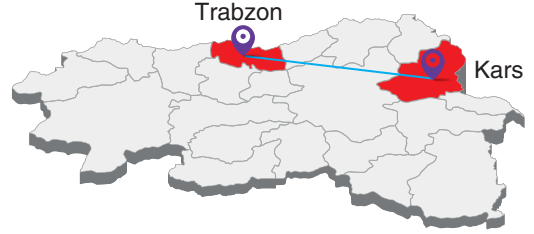
Buna göre;

- I. Erzurum Palandöken Dağı'nda kayak turizminin yapılması,
- II. Zonguldak'ın taş kömürü madeni bakımından zengin olması,
- III. deniz kıyısında yer almasından dolayı İzmir'in ikliminin ılıman olması

durumlarından hangileri göreceli konum kavramı ile ilişkilendirilebilir?

- A) I ve II B) I ve III
C) II ve III D) I, II ve III

2. Trabzon ile Kars arası yolculuk yapan Ahmet Bey, Trabzon'un ikliminin Kars'a göre daha ılıman olduğunu görmüştür.



Buna göre Kars'ta iklimin daha sert olması şehrin aşağıdaki özelliklerinden hangisi ile açıklanabilir?

- A) Bitki örtüsü
B) Yüz ölçümü
C) Yükselti
D) Yer altı kaynakları

- 3.



Bu haritalara göre Kars ili ile ilgili aşağıdaki yargılardan hangisine ulaşamaz?

- A) Ülkemizin Ermenistan sınırında yer almaktadır.
- B) Güneyinde Ağrı ve Iğdır vardır.
- C) Erzurum'un doğusunda yer alır.
- D) Kışları ılık ve yağışlı geçmektedir.

4. Dünya üzerindeki bir yerin kıtalara, okyanuslara, geçitlere, su yollarına ve kentlere olan uzaklığına “göreceli konum” denir.

Buna göre İstanbul’un;

- I. önemli bir su geçidine sahip olması,
- II. iki kıtayı birbirine bağlaması,
- III. batısında sanayisi gelişmiş Avrupa ülkelerinin bulunması

özelliklerinden hangileri göreceli konumuyla açıklanabilir?

- A) I ve II
- B) I ve III
- C) II ve III
- D) I, II ve III

5. Aşağıda doğal gaz ve petrol boru hatlarının güzergâhını gösteren bir harita verilmiştir.



Bu haritaya göre Erzurum’un göreceli konumu ile ilgili,

- I. Enerji kaynağına sahip ülkelere yakındır.
- II. Sıcaklık değerleri düşüktür.
- III. Farklı ülkelere sınırı vardır.

yargılarından hangilerine ulaşılabilir?

- A) Yalnız I
- B) I ve II
- C) I ve III
- D) II ve III

6. Aşağıda Hatay ilini gösteren harita verilmiştir.



Bu haritaya göre Hatay ile ilgili aşağıdakilerden hangisi söylenemez?

- A) Bir ülke ile sınırı bulunmaktadır.
- B) Nüfusu hızlı artış gösteren bir şehirdir.
- C) Ülkemizin en güneyinde yer almaktadır.
- D) Güneybatısında büyük bir ada bulunmaktadır.



1. Dünyanın önde gelen sulama ve enerji barajlarından biri olan Atatürk Barajı, yıllık 8,9 milyar kilovatsaat elektrik üretimi yapıyor. Baraj başta Şanlıurfa, Harran, Mardin, Ceylanpınar, Siverek-Hilvan ovaları olmak üzere bölge genelinde yaklaşık 10 milyon dekar bereketli arazinin suyla buluşmasını sağlıyor. Baraj, elektrik üretimi ve sulamaya katkısının yanı sıra Şanlıurfa turizmi için de önemli bir potansiyeli barındırıyor. Şehrin önde gelen turizm değerleri arasında yer alan barajı, her yıl yaklaşık 50 bin civarında yerli ve yabancı turist ziyaret ediyor. Dev baraj, aynı zamanda Türkiye için önemli bir balık üretim tesisi olma özelliği de taşıyor. 26 yılda yaklaşık 150 milyon yavru balık üretimi yapılan baraj, balıkçılığın gelişmesine katkı sağlıyor.

(Genel ağ haberinden düzenlenmiştir.)

Buna göre aşağıdakilerden hangisi Atatürk Barajı'nın yapılmasının olumlu sonuçları arasında gösterilemez?

- A) Tarım arazilerinin sulanması
- B) Üzerinde balıkçılık faaliyetlerinin yapılması
- C) Bazı yerleşim yerlerinin sular altında kalması
- D) Hidroelektrik enerji elde edilmesini sağlama

2. Güneydoğu Anadolu Projesi (GAP), Fırat Dicle havzası ile yukarı Mezopotamya ovalarında yer alan 9 ili (Adıyaman, Batman, Diyarbakır, Gaziantep, Kilis, Mardin, Siirt, Şanlıurfa, Şırnak) kapsamaktadır. GAP'ın temel hedefleri; ülkemizin güneydoğusundaki illerin sahip olduğu kaynakları değerlendirerek, yöre halkının gelir düzeyini ve yaşam kalitesini yükseltmek, bu bölge ile diğer bölgeler arasındaki gelişmişlik farkını gidermek, kırsal alandaki verimliliği ve iş olanaklarını artırarak ulusal düzeyde ekonomik gelişme ve sosyal istikrar hedeflerine katkıda bulunmaktır.

(Genel ağ haberinden düzenlenmiştir.)

Buna göre Güneydoğu Anadolu Projesi ile aşağıdakilerden hangisinin amaçlandığı söylenemez?

- A) Kaynakların verimliliğini artırmak
- B) Halkın hayat standartlarını yükseltmek
- C) Geleneksel üretim yöntemlerini devam ettirmek
- D) Bölgenin diğer bölgelerle olan gelir farklılıklarını azaltmak

3. İnsan nüfusunun artması, ihtiyaçların çeşitlenmesi, kaynakların bilinçsizce tüketilmesi ve bazı teknolojik gelişmeler çevre sorunlarının yaşanmasına neden olmaktadır.

Buna göre aşağıdaki davranışlardan hangisinin bu sorunların önlenmesinde etkili olduğu söylenemez?


- A) Fabrika bacalarına filtre takma
- B) Tek kullanımlık tabak ve bardak kullanma
- C) Bireysel araç yerine toplu taşıma araçlarını tercih etme
- D) Bitkisel atık yağlarını atık yağ toplama bidonlarına atma

4.

ERZURUM'DA KAYAK MERKEZLERİNE 270 BİN METREKÜP SUNİ KAR YAĞDIRILDI.

Son yılların en kurak ve sıcak kışının yaşandığı Erzurum'da, Palandöken ve Konaklı kayak merkezlerindeki 10 piste toplam 270 bin metreküp suni kar yağdırıldı. Böylece kar kalınlığının 1,5 metreye yaklaştığı pistler, yerli ve yabancı kayakseverlerin hizmetine sunuldu.

(Genel ağdan düzenlenmiştir.)



Bu habere göre aşağıdakilerden hangisine ulaşılabilir?

- A) Turizm faaliyetlerinde aksamalar yaşanmıştır.
- B) Çevresel değişim tepkilere neden olmuştur.
- C) İnsanlar, doğal çevreye müdahale etmiştir.
- D) Suni kar, çevre kirliliğine neden olmuştur.

5. Çevremizde meydana gelen değişimler, bazen olumsuz sonuçlar ortaya çıkarabilmektedir.

Aşağıdakilerden hangisi bu duruma örnek gösterilemez?

- A) Bilinçsizce açılan sondajlar nedeniyle Avlan Gölü'nün kuruması
- B) Ulaşımı kolaylaştırmak için Çanakkale Boğazı'na köprü yapılması
- C) Çok sayıda sanayi tesisinin bulunduğu İzmir'de hava kirliliğinin yaşanması
- D) Plansız yapılaşma nedeniyle Doğu Karadeniz'de heyelana bağlı can ve mal kayıplarının olması

6. Aşağıdaki görsellerin hangisinde doğal çevreye insan müdahalesi söz konusu değildir?





1. Ülkemizde nüfusun dağılımını inceleyen Selim, nüfusu en az olan şehirlerin ülkemizin doğusunda olduğunu fark etmiştir. Bu durumun nedenini araştırdığında aşağıdaki unsurların etkili olduğuna ulaşmıştır.

- ----
- ----
- ----

Bu metinde boş bırakılan yerlere aşağıdakilerden hangisi getirilemez?

- A) Yükseltinin fazla olması
B) İklim şartlarının elverişsizliği
C) Yüz ölçümünün geniş olması
D) İş imkânlarının kısıtlı olması

2.

Durum

Günümüzde iş imkânlarının fazla olduğu bölgelerde, nüfus yoğunluğunun da fazla olduğu gözlemlenir.

Yargı

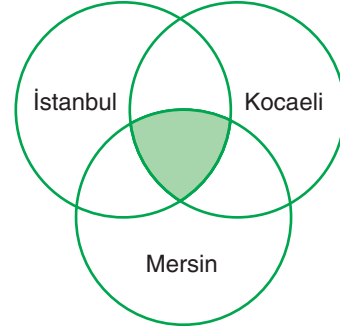
Ülkemizde iş imkânlarının fazla, ekonomik faaliyetlerin canlı olduğu şehirlerde nüfus fazladır.

Örnek

Bu akış şemasında boş bırakılan yere aşağıdakilerden hangisi getirilemez?

- A) Ankara
B) İzmir
C) Adana
D) Ağrı

3. Aşağıdaki Venn şemasında boyalı bölgeye, üç şehrimizde doğal çevrede değişime neden olan beşerî unsurlar yazılacaktır.



Buna göre aşağıdakilerden hangisi Venn şemasındaki boyalı bölgeye yazılamaz?

- A) İklim
B) Ulaşım
C) Ticaret
D) Sanayi

4. I. İklim koşulları
II. Su kaynakları
III. Ticaret
IV. Sanayi

Yukarıdaki özelliklerden hangileri nüfus dağılımını etkileyen doğal unsur kavramı ile ilişkilendirilebilir?

- A) I ve II
B) I ve III
C) II ve III
D) III ve IV

5. Aşağıdaki ifadeler yapılan “Doğru (D)-Yanlış (Y)” değerlendirmelerinden hangisi **yanlıştır**?

	D	Y
A) İnsanlar, yaşam şartlarını iyileştirmek için doğal çevreye müdahale edebilir.	D	
B) İnsanların her türlü faaliyetleri çevreye zarar verir.		Y
C) Temel geçim kaynağı tarım olan illerde çevre kirliliği yaşanmaz.	D	
D) Doğal ortamdaki değişim sadece insanlara zarar verir.		Y