

1. Tarih yazmak yapmak kadar mühimdir yazan yapana sadık kalmazsa değişmeyen hakikatlar insanlığı şaşkırtacak bir hâl alır.

Atatürk bu sözü ile tarih yazımında aşağıdakilerden hangisinin önemine vurgu yapmıştır?

- A) Nesnel olma
- B) Belgelere dayandırma
- C) Ulusal bilinç aşıllama
- D) Gözlem yapma
- E) Bütünlüğü koruma

2.



Türkiye Selçukluları Dönemi'ne ait bu kitabeyi çözümleyebilmek için tarihinin;

- I. epigrafya,
- II. filoloji,
- III. paleografya

bilimlerinden hangileriyle ilişki içerisinde olması bir zorunluluktur?

- A) Yalnız I
- B) Yalnız II
- C) Yalnız III
- D) I ve II
- E) I, II ve III

3. Fatih Sultan Mehmet Dönemi'nden kalan ferman, berat, kanunname gibi belgeleri şekil ve içerik bakımından incelemek için aşağıdaki bilim dallarından hangisiyle çalışmak bir zorunluluktur?

- A) Heraldik
- B) Diplomatik
- C) Filoloji
- D) Karbon 14
- E) İstatistik

4. Aşağıdakilerden hangisi tarihî olayların araştırılmasında başvurulan yöntemlerden biri değildir?

- A) Yer ve zaman belirtme
- B) Kaynak taraması yapma
- C) Neden-sonuç bağı kurma
- D) Bulguları sınıflandırma
- E) Olayları gözlemeleme

5. Asurlular hakkında araştırma yapacak olan bir bilim insanının araştırmasında kullanacağı aşağıdaki bulgulardan hangisi diğerlerinden daha kesin bilgiler verir?

- A) Madenî eşyalar
- B) Kültepe tabletleri
- C) Şehir kalıntıları
- D) Dokuma kumaşlar
- E) Ok ve yaylar

6. Bir tarihçi, araştıracağı konu için her şeyden önce kaynak çalışması yapmak zorundadır.

Buna göre Hitlerle ilgili araştırma yapan bir tarihçinin;

- I. müzeler,
- II. kazı alanları,
- III. ören yerleri

alanlarından hangilerinde araştırma yapması bir zorunluluktur?

- A) Yalnız I
- B) Yalnız II
- C) Yalnız III
- D) I ve II
- E) I, II ve III

7. Bugün yaygınlıkla kullanılan hicri ve miladi takvimlerin temellerini atan İlk Çağ uygarlıkları aşağıdakilerin hangisinde sırasıyla verilmiştir?

- A) Sümer - Akad B) Sümer - Babil
C) Sümer - Mısır D) Yunan - Roma
E) Roma - Mısır

8. MÖ 1280 tarihi MÖ 209 tarihinden sayıca büyük olmasına karşın daha eski bir zamanı gösterir.

Bu duruma göre aşağıdakilerden hangisi söylenebilir?

- A) Tarih milat ile başlamıştır.
B) Miladi takvim Ay yılına göre düzenlenmiştir.
C) Tarihî çağlar yazı ile başlamıştır.
D) Milattan sonraki tarihler rakamsal olarak günümüze yaklaştıkça büyür.
E) Milattan önceki tarihler rakamsal olarak günümüze yaklaştıkça küçülür.

9. 1991 yılında Avusturya-İtalya sınırındaki Ötzer Alplerinde keşfedilen MÖ 3300 yıllarında yaşamış Buz Adam Ötzi'nin ölüm nedenini ortaya çıkarabilmek için tarihçilerin aşağıdaki tarihe yardımcı bilimlerden hangisinin mensuplarıyla detaylı bir araştırma yapması gereklidir?

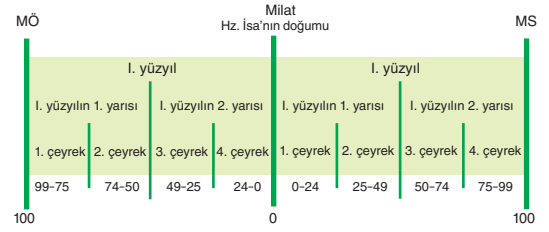
- A) Antropoloji B) Filoloji
C) Heraldik D) Etnografya
E) Nüvizmatik

10. Nüvizmatik bilimi, eski paraları inceleyerek devletlerin ve toplumların bazı özelliklerini ortaya çıkarır.

Buna göre Roma Dönemi'ne ait paraları inceleyen bir nüvizmatikçi, Romalılar hakkında aşağıdaki bilgilerden hangisine ulaşamaz?

- A) Ekonomik durum
B) Kullanılan alfabe
C) Dönemin kralı
D) Toprak sistemi
E) Devrin sanat anlayışı

11.




Tablodaki bilgiler göz önüne alındığında MÖ 209 tarihinin yüzyıl, yarım ve çeyrek olarak karşılığı aşağıdakilerin hangisinde doğru verilmiştir?

- A) II. yüzyılın II. yarısı IV. çeyreği
B) III. yüzyılın II. yarısı IV. çeyreği
C) III. yüzyılın I. yarısı I. çeyreği
D) II. yüzyılın IV. yarısı II. çeyreği
E) XIII. yüzyılın I. yarısı I. çeyreği

12. Toplumlar kendileri için önemli gördükleri olayları takvimlerine başlangıç olarak belirlemiştir.

Buna göre aşağıdaki gelişmelerden hangisi toplumlar tarafından takvim başlangıcı olarak belirlenen olaylar arasında yer almaz?

- A) Roma'nın ikiye ayrılması
B) Yahudilerin yaradılış yılı
C) Yunanların ilk olimpiyat oyunları
D) Hz. İsa'nın doğumu
E) Hz. Muhammed'in Medine'ye hicreti



894913

ÖĞRENCİ NO	YANITLAR
0 0 0 0 0 0	1 A B C D E 11 A B C D E
1 1 1 1 1 1	2 A B C D E 12 A B C D E
2 2 2 2 2 2	3 A B C D E 13 A B C D E
3 3 3 3 3 3	4 A B C D E 14 A B C D E
4 4 4 4 4 4	5 A B C D E 15 A B C D E
5 5 5 5 5 5	6 A B C D E 16 A B C D E
6 6 6 6 6 6	7 A B C D E 17 A B C D E
7 7 7 7 7 7	8 A B C D E 18 A B C D E
8 8 8 8 8 8	9 A B C D E 19 A B C D E
9 9 9 9 9 9	10 A B C D E 20 A B C D E

1.

Tarihin daima zamanların ışığı, olayların hazinesi, gerçeklerin tanığı, iyi nasihatlerin ve tedbirin kaynağı, davranışın ve adaletin kaidesi olarak değerlendirilmiş olması boşuna değildir. Tarih olmaksızın yaşadığımız asrın ve ülkenin sınırları içine hapsedilmiş, özel bilgilerimizin ve kendi düşüncelerimizin dar çemberi içine sıkıştırılmış bir şekilde daima, dünyanın geri kalan kısmına karşı bizi yabancı bırakan bir tür çocukluk çağında ve bizden önce gelen ve bizi çevreleyen her şeye karşı derin bir cehalet içinde kalmaktayız.

Montesquieu'nun bu sözüne göre,

- I. Tarih hayatın vazgeçilmezidir.
- II. Tarih geçmişin aynasıdır.
- III. Tarih toplumların yön vericisidir.

yorumlarından hangilerine ulaşılabilir?

- A) Yalnız I B) Yalnız II C) Yalnız III
D) I ve II E) I, II ve III

2.

	Takvimlerin Özellikleri	Hicri Takvim	Miladi Takvim
I.	Başlangıç yılı	622	0
II.	Yıl sistemi	Ay	Güneş
III.	Ay sayısı	12	12
IV.	Temellerini atan toplum	Mısır	Sümer
V.	Toplam gün sayısı	354	365

Yukarıdaki tabloda hicri ve miladi takvim ile ilgili verilen bilgilerden hangisi yanlıştır?

- A) I B) II C) III D) IV E) V

3.

Tarihçi metinleri iyi anlamaktan başka ihtirasa sahip olmamalıdır ve bu gaye için yardımcı ilimlerin bütün tekniklerini kullanmak zorundadır.

Buna göre fosillerin yaşını ortaya çıkarma, belgelerin sahteliğini veya gerçekliğini tespit etme amacı doğrultusunda tarihçinin iş birliğine gireceği yardımcı bilim dalı aşağıdakilerden hangisidir?

- A) Etnografya B) Heraldik
C) Kimya D) Antropoloji
E) Paleografya

4.

Asker, Silah, Cephane	Türk Kuvvetleri	Yunan Kuvvetleri
Subay	8.659	6.564
Er	199.283	218.000
Tüfek	100.352	83.000
Kılıç	5.000	1.300
Hafif Makineli Tüfek	2.025	3.113
Hafif Makineli Tüfek	2.025	1.280
Top	340	418
Uçak	8	50

Büyük Taarruza ait bu sayıları düzenli hâle getirmek için tarihçilerin aşağıdaki bilimlerin hangisi ile iş birliği yapması zorunludur?

- A) Nüvizmatik B) İstatistik
C) Heraldik D) Paleografya
E) Kronoloji

5.

Bir tarihî olayın geçtiği döneme ait her çeşit bulgu ve belgeye "birinci el kaynak" denir.

Buna göre aşağıdakilerden hangisi Millî Mücadele Dönemi ile ilgili birinci el kaynaklardan biri olamaz?

- A) Asker mektubu
B) İstiklal Madalyası
C) Turgut Özakman'ın kitabı
D) Atatürk'ün *Nutuk'u*
E) Lozan Antlaşma metni

6.

- İstanbul 1453 yılında fethedildi.
- Asya Hunları MÖ 220'de kuruldu.
- Osmanlı Devleti'nde matbaa 1727 yılında getirildi.
- Atatürk 1881 yılında doğdu.
- Kadeş Savaşı MÖ 1296'da başladı.

Aşağıdakilerden hangisi bu tarihlerin yüzyıl olarak karşılığı değildir?

- A) XVIII. yüzyılın I. yarısı, II. çeyreği
B) XIX. yüzyılın II. yarısı, IV. çeyreği
C) XIII. yüzyılın I. yarısı, I. çeyreği
D) III. yüzyılın II. yarısı, IV. çeyreği
E) XIX. yüzyılın I. yarısı, I. çeyreği

7. Tarihsel olaylarda olayın geçtiği zamanın belirgin olması tarihsel araştırmaları kolaylaştırır.

Buna göre bir tarihçinin aşağıdaki olaylardan hangisini araştırması daha kolaydır?

- A) Malazgirt Savaşı 1071'de gerçekleşmiştir.
B) Büyük Taarruz 26-30 Ağustos arasında yaşanmıştır.
C) Kadeş Barışı MÖ 1280'de imzalanmıştır.
D) İstanbul 29 Mayıs 1453'te fethedilmiştir.
E) İkinci Dünya Savaşı 1939-1945 yılları arasında yaşanmıştır.

8. İnsanoğlunun meydana getirdiği faaliyetler, değişimler ve eserler tarihin konusunu oluşturur.

Teknik	
Kültürel	
Siyasi	
Mimari	

Bu bilgilere göre tabloda verilen kavramların karşısına aşağıdakilerden hangisi yazılamaz?

- A) Buhar makinasının icadı
B) Çin Seddi'nin yapılması
C) Kast sisteminin ortaya çıkması
D) Yazının bulunması
E) Kadeş Antlaşması'nın imzalanması

9. Tarihsel süreçte önceki olayların sonuçlarının sonraki olayın nedenlerini oluşturduğunu anlamak için tarihçinin öncelikli olarak aşağıdakilerden hangisini göz önünde bulundurması gerekir?

- A) Belgelere bakmayı
B) İnsan ilişkilerini incelemeyi
C) Yer ve zaman incelemeyi
D) Objektif olmayı
E) Neden-sonuç ilişkisini


10. Tabletler ve paralar tarihin yazılı kaynaklarından-
dır.
MÖ tarihlerde rakamsal değeri büyük olan yıl daha eski bir zaman dilimini gösterir.
Paleografya bilimi tarih öncesi dönemlerde ilgili araştırmaları dikkate almaz.
Celâli takvimi Osmanlılarda mali hayatı düzenlemek için hazırlanmıştır.
Tarihî olaylar yaşadıkları döneme göre değerlendirilmelidir.

Bu "Doğru (D) Yanlış (Y)" etkinliğindeki soruların tamamına aşağıdaki öğrencilerden hangisi doğru cevap vermiştir?

- A) Gazi: D - D - D - D - Y
B) Murat: D - D - D - Y - D
C) Melike: D - D - Y - Y - D
D) Tan: D - Y - D - Y - D
E) Elif: D - D - D - D - D

11. Hititler hakkında akademik araştırma yapan bir tarihçinin araştırması sırasında başvurulan aşağıdaki yöntemlerden hangisine öncelik verilmesi gerekir?

- A) Kaynak taraması yapmak
B) Kaynakları eleştiri süzgecinden geçirmek
C) Kaynakları birbirleriyle karşılaştırmak
D) Eldeki verileri birleştirmek
E) Kaynakları sınıflandırmak



894914

ÖĞRENCİ NO	YANITLAR
1	1 A B C D E 11 A B C D E
2	2 A B C D E 12 A B C D E
3	3 A B C D E 13 A B C D E
4	4 A B C D E 14 A B C D E
5	5 A B C D E 15 A B C D E
6	6 A B C D E 16 A B C D E
7	7 A B C D E 17 A B C D E
8	8 A B C D E 18 A B C D E
9	9 A B C D E 19 A B C D E
10	10 A B C D E 20 A B C D E

1. Nil'in sularının taşması sonucu tarlaların sınırları birbirine karışmış ve bu tarlaları ayırmak için Mısır'da geometri ilmi gelişmiştir. Mısırlılar, yine bu taşkınların zamanını tespit etmek için güneş yılını hesaplamıştır. Ölümünden sonraki yaşama inandıkları için ölülerini mumyalamışlar böylelikle insan vücudunu tanımışlar, tıp ve eczacılık bilimlerinde gelişmişlerdir. Tanrı-kral anlayışına bağlı olarak firavunlar için piramit adı verilen anıt mezarlar yapılmıştır.

Bu bilgilere göre Mısır'da bilimin gelişmesinde;

- I. doğa olayları,
- II. ekonomik uğraşlar,
- III. dinsel inançlar

unsurlardan hangileri etkili olmuştur?

- A) Yalnız I B) I ve II C) I ve III
D) II ve III E) I, II ve III

2. • Parşömen kâğıdı
• Papirüs kâğıdı
• Harf yazısı

Bu icatların ilgili oldukları uygarlıklarla ilişkisi aşağıdakilerin hangisinde bir arada verilmiştir?

- A) Fenike, Sümer, Mısır
B) Mısır, Bergama, Fenike
C) Mısır, Bergama, Sümer
D) Sümer, Roma, Mısır
E) Mısır, Bergama, Roma

3. "Tarih Sümerler ile başlar." sözünün söylenmesinde etkili olan icat aşağıdakilerden hangisidir?

- A) Takvim B) Matbaa C) Yazı
D) Ateş E) Kâğıt

4. Yazının icadından önceki dönem olan tarih öncesi devirler sınıflandırılırken insanların kullanmış oldukları araç gereç ve madenlerden yola çıkılmıştır. Buna göre tarih öncesi Taş Çağı ve Maden Çağı şeklinde dönemlendirilmiştir. Yazının icadıyla birlikte tarihî çağlar başlamıştır. Taş Çağı; Eski Taş, Orta Taş ve Yeni Taş Çağı olmak üzere kendi içinde çağlara ayrılırken Maden Çağı da Bakır, Tunç ve Demir Çağı olarak dönemlere ayrılmıştır. Zamanla bu dönemlendirmeye, üretim ve yerleşme biçimiyle yaşam koşullarını belirleyen diğer etkenler de eklenmiştir.

Bu bilgilere göre tarih öncesi dönemlerin çağlara ayrılmasında;

- I. madenler,
- II. araç gereçler,
- III. üretim tarzı

durumlarından hangilerinin etkili olduğu söylenebilir?

- A) Yalnız I B) Yalnız II C) I ve II
D) II ve III E) I, II ve III

5. Günümüze kadar keşfedilen en erken tarihli dinî mimarinin içinde yer alan Göbeklitepe bugün aşağıdaki şehirlerden hangisinin sınırları içerisinde yer alır?

- A) Şanlıurfa B) Gaziantep C) Çorum
D) Antalya E) İzmir

6. Hititler, Tunç Devri'ni yaşarken Asurlarla MÖ 1900'lerde yaptıkları ticaret sonucunda yazıyı öğrenmişlerdir.

Buna göre Hititler Tunç Çağı'nda yazıyı öğrendiklerinde Asurlular aşağıdaki çağlardan hangisini yaşamaktaydı?

- A) Demir Çağı B) İlk Çağ
C) Orta Çağ D) Yeni Çağ
E) Yakın Çağ

7. Anadolu'da bulunan aşağıdaki ören yerlerinden hangisinin "UNESCO Dünya Mirası" listesinde yer aldığı söylenemez?

- A) Çatalhöyük B) Çayönü C) Göbeklitepe
D) Truva E) Hattuşaş

8. Paleolitik Dönem ile Neolitik Dönem'in ortak özellikleri arasında aşağıdakilerden hangisi gösterilebilir?

- A) Tarımsal üretimin yapılması
B) Hayvanların evcilleştirilmesi
C) Köy yerleşkelerinin kurulması
D) Yiyeceklerin pişirilmesi
E) Çanak ve çömlek yapılması

9. Tarih öncesi dönemlerle ilgili arkeolojik bir çalışma yapan Şebnem Öğretmen'in toprağın en alt katmanında aşağıdakilerden hangisine rastlama ihtimali diğerlerinden daha yüksektir?

- A) Tohumluk buğday
B) Demir silahlar
C) Bakır süs eşyaları
D) Bronz heykeller
E) Taş baltalar

10. Sümerler tarafından inşa edilen "ziggurat" adlı tapınakların aşağıdaki amaçlardan hangisine hizmet ettiği söylenemez?

- A) İbadet yapma
B) Okuma yazma öğretme
C) Tahıl depolama
D) Yıldızları gözlemeleme
E) Devleti yönetme


11. İlk Çağ'da toplumsal uğraşlar bilimin gelişmesinin en önemli anahtarı olmuştur. Mesela; Sümerlerde tarımsal üretim için ekme zamanını tespit ihtiyacı --I-- , toplanan ürünün kayıt altına alınması --II-- icatlarının ortaya çıkmasında etkili olmuştur.

Bu bilgilere göre, parçada numaralanmış yerlere aşağıdakilerden hangileri yazılabilir?

- | | I | II |
|----|---------------|-----------------|
| A) | Ay takvimi | çivi yazısı |
| B) | Güneş takvimi | hiyeroglif yazı |
| C) | Ay takvimi | alfabe |
| D) | geometri | çivi yazısı |
| E) | Güneş takvimi | geometri |

12. Aşağıdaki İlk Çağ uygarlıklarından hangisi çivi yazısından ve hiyeroglif yazıdan esinlenerek kendilerine özgü bir alfabe oluşturmuşlardır?

- A) Fenikeliler B) Hititler C) Urartular
D) Lidyalılar E) İyonlar



894915

ÖĞRENCİ NO	YANITLAR
0 0 0 0 0 0	1 A B C D E 11 A B C D E
1 1 1 1 1 1	2 A B C D E 12 A B C D E
2 2 2 2 2 2	3 A B C D E 13 A B C D E
3 3 3 3 3 3	4 A B C D E 14 A B C D E
4 4 4 4 4 4	5 A B C D E 15 A B C D E
5 5 5 5 5 5	6 A B C D E 16 A B C D E
6 6 6 6 6 6	7 A B C D E 17 A B C D E
7 7 7 7 7 7	8 A B C D E 18 A B C D E
8 8 8 8 8 8	9 A B C D E 19 A B C D E
9 9 9 9 9 9	10 A B C D E 20 A B C D E

1. Orta Anadolu'da geniş bir alana egemen olan Friglerin, bir tarım toplumu olduklarına;

- I. tapates adı verilen halı ve kilimleri dokumaları,
- II. bereketi simgeleyen Kibele'yi baş tanrı ilan etmeleri,
- III. öküz öldüreni ve saban kıranı ölümle cezalandırmaları

durumlarından hangileri kanıt olarak gösterilebilir?

- A) Yalnız I B) Yalnız II C) I ve II
D) II ve III E) I, II ve III

2. Ege medeniyetlerinde tanrılar insan şeklinde düşünülmüş ve tanrıların ölümsüz olduğuna inanılmıştır.

Bu durum Ege uygarlıklarında aşağıdaki sanat dallarından hangisini ön plana çıkartmıştır?

- A) Heykel B) Resim C) Müzik
D) Mimari E) Hat

3. Asur, Fenike, İyon ve Yunan uygarlıklarının ortak özelliği aşağıdakilerden hangisidir?

- A) Anadolu'da kurulmaları
B) Kolonicilik yapmaları
C) Alfabe icat etmeleri
D) Denizcilikte ilerlemeleri
E) Şehir devletleri şeklinde örgütlenmeleri

4. Aynı zaman dilimi içerisinde yaşayan uygarlıklara "çağdaş uygarlıklar" denir.

Buna göre aşağıdaki İlk Çağ uygarlıklarından hangisi diğerinin çağdaşı değildir?

- A) Lidyalılar - Persler
B) Sümerler - Hititler
C) Fenikeliler - Romalılar
D) Hititler - Asurlar
E) Mısırlar - Hititler

5. Yaşanılan coğrafya bilimin ve kültürün gelişmesine önemli katkılarda bulunur.

Buna göre;

- I. altın para,
- II. Ay takvimi,
- III. çivi yazısı

icatlarından hangilerinin Bereketli Hilal olarak adlandırılan Mezopotamya'da ortaya çıktığı söylenemez?

- A) Yalnız I B) Yalnız II C) Yalnız III
D) I ve II E) II ve III

6. İlk Çağ'da Anadolu'da kurulan uygarlıkların merkezlerine bir sanal gezi düzenlemeyi planlayan Duhan Öğretmen gezi öncesi bir gezi planı hazırlamıştır.

Bu sanal gezi planında aşağıdaki şehirlerden hangisinin olması beklenemez?

- A) Hattuşuş B) Sard C) Tuşpa
D) Urug E) Gordion

7. I. Kapadokya
II. Antakya
III. Hattuşaş

İlk Çağ'da yukarıdaki bölgelerden hangilerinin Hristiyanlık inancına ev sahipliği yaptığı söylenebilir?

- A) Yalnız I B) Yalnız II C) I ve II
D) I ve III E) II ve III

8.

Ülkeleri dışında ele geçirilen toprakları kendilerine bağlayarak bazen de kendi vatandaşlarını o bölgeye yerleştirerek genellikle ticari faaliyetlerde kullanmak amacıyla oluşturulan idarelere "koloni" denir. Bu kolonilerin devletin idaresinde aktif olarak kullanılmasına da "kolonicilik" denir.

Bu bilgilere göre aşağıdaki İlk Çağ uygarlıklarından hangisinin bir koloni imparatorluğu olduğu söylenemez?

- A) İyon B) Roma C) Asur
D) Hitit E) Yunan

9.

- Urartularda tarım alanlarının kısıtlı olması nedeniyle Urartu ekonomisi daha çok hayvancılık ve madencilik üzerine kurulmuştur.
- Batı Anadolu'ya egemen olan Lidyalılar, İyonlarla yaşadıkları mücadeleler neticesinde kara koloniciliğinde gelişme göstermişlerdir.
- Mısır uygarlığı Nil deltasında hayat bulduğu için tarımda ön plana çıkmıştır.

Bu bilgilere göre uygarlıkların ekonomik uğraşları;

- I. coğrafya,
II. dinî inanışlar,
III. siyasi ilişkiler

unsurlarından hangilerine göre şekillenmiştir?

- A) Yalnız I B) Yalnız II C) I ve II
D) I ve III E) I, II ve III

10. Mezopotamya uygarlıklarından biri olan Asurlular Anadolu'ya ticaret amacıyla giderek, Anadolu'ya yazıyı götürmüşler ve Anadolu'da Kültepe Tabletlerini yapmışlardır.

Buna göre Asurlular'ın, Hititlerle aşağıdaki Anadolu şehirlerinden hangisinde yaptıkları ticaret sayesinde Anadolu yazı ile tanışmıştır?

- A) Kayseri B) Konya C) Çorum
D) Şanlıurfa E) İzmir

11. İlk Çağ'da Persler kurmuş oldukları satraplık adındaki eyalet sistemi ile geniş topraklara hükmetmişlerdir.

Bu sistemi daha sonra;


- I. Makedonya,
II. Roma,
III. Mısır

uygarlıklarından hangilerinin benimsediği söylenebilir?

- A) Yalnız I B) Yalnız II C) I ve II
D) I ve III E) I, II ve III

12. Aşağıdaki İlk Çağ uygarlıklarından hangisi Mezopotamya'daki bütün kanunları bir araya getirerek dünyanın ilk anayasasını ortaya koymuştur?

- A) Sümerler B) Hititler C) Akadlar
D) Asurlular E) Babiller



894916

ÖĞRENCİ NO	YANITLAR
0 0 0 0 0 0 0 0	1 A B C D E 11 A B C D E
1 1 1 1 1 1 1 1	2 A B C D E 12 A B C D E
2 2 2 2 2 2 2 2	3 A B C D E 13 A B C D E
3 3 3 3 3 3 3 3	4 A B C D E 14 A B C D E
4 4 4 4 4 4 4 4	5 A B C D E 15 A B C D E
5 5 5 5 5 5 5 5	6 A B C D E 16 A B C D E
6 6 6 6 6 6 6 6	7 A B C D E 17 A B C D E
7 7 7 7 7 7 7 7	8 A B C D E 18 A B C D E
8 8 8 8 8 8 8 8	9 A B C D E 19 A B C D E
9 9 9 9 9 9 9 9	10 A B C D E 20 A B C D E

1. İlk Çağ'da kendi alanlarında ilk olan gelişmelere birer örnek isteyen Yekta Öğretmen'e öğrencileri aşağıdaki cevapları vermişlerdir.

Ali: Alfabe

Nurhan: Çivi yazısı

Turgay: Urgakina Kanunları

Berra: Altın paralar

Tunç: Demir kılıçlar

Bu cevaplara göre aşağıdaki öğrencilerden hangisinin konuyu tam olarak anladığı söylemez?

- A) Ali B) Nurhan C) Turgay
D) Berra E) Tunç

2. İlk Çağ toplumlarında inançlar bilimsel hayatın gelişimine katkı sağlamışlardır.

Bu duruma;

- I. Sümerlerde tapınaklara gelen artı ürünlerin kayıt ihtiyacının doğmasının yazı ve muhasebe sistemini ortaya çıkarması,
- II. Sümerlerin tanrıların göklerde yaşadığını düşünüp Ay takvimini hazırlaması,
- III. Mısırlıların ölümden sonra hayata inanmalarının, tıp, eczacılık ve mimarinin gelişimine katkı sağlaması

gelişmelerinden hangileri kanıt olarak gösterilebilir?


- A) Yalnız I B) Yalnız II C) Yalnız III
D) I ve II E) I, II ve III

3. I. Tohum depoları
II. Tahıl öğütme taşları
III. Saban parçaları
IV. Sulama kanalları
V. Evcil buğdaylar

Yukarıdaki bulgulardan hangisi bölgede tarım yapıldığının kesin kanıtı olamaz?

- A) I B) II C) III D) IV E) V

4.



Bu görseldeki yaşam tarzı ilk olarak aşağıdaki tarih öncesi çağlardan hangisi ile başlamıştır?

- A) Eski Taş B) Yeni Taş C) Bakır
D) Tunç E) Demir

5. Hititliler hakkında bir proje ödevi hazırlayan Aslı'nın ödevinde;

- Alacahöyük
- Tapates,
- Kadeş Barışı,
- Kültepe,
- Kaniş Karumu,
- Pankuş Meclisi,
- Tavananna,
- Ziggurat

gibi kavramlar geçmiştir.

Aslı'nın ödevini değerlendiren tarih öğretmeni bazı kavramların konunun kapsamının dışına çıktığını belirtmiştir.

Buna göre tarih öğretmeni kapsam dışı olarak ifade ettiği kavramlar aşağıdakilerin hangisinde birlikte verilmiştir?

- A) Alacahöyük, Tapates
B) Tapates, Ziggurat
C) Kadeş Barışı, Kaniş Karumu
D) Tapates, Tavananna, Ziggurat, Kültepe
E) Pankuş Meclisi, Kaniş Karumu, Tapates

6. Alperen Öğretmen, aşağıdaki görseli yansıttıktan sonra öğrencilerinden, hangi İlk Çağ uygarlığını anlatacağını tahmin etmelerini istemiştir.



Öğrenciler aşağıdaki uygarlıklardan hangisini söylerse doğru cevap vermiş olur?

- A) Mısır B) Sümer C) Yunan
D) Hint E) Roma

- 7.



Haritada verilen uygarlıkların ortak noktası aşağıdakilerden hangisidir?

- A) Aynı dine inanmaları
B) Tüccar toplum olmaları
C) Harf yazısını kullanmaları
D) Monarşik düzenle yönetilmeleri
E) Sürekli çatışma hâlinde olmaları

8. Tuna Öğretmen öğrencisi Ruşen'e İlk Çağ uygarlıkları ile ilgili her biri 5 puan olan bir "Doğru (D)-Yanlış (Y)" etkinliği düzenlemiştir. Bu etkinliği Ruşen aşağıdaki cevapları vermiştir.

	D/Y
Sümerler şehir devletleri şeklinde örgütlendikleri için belli bir başkentten yönetilmemiştir.	D
Büyük İskender Doğu - Batı uygarlıklarını kaynaştırarak Helenizm uygarlığını ortaya çıkarmıştır.	D
Dünyanın ilk alfabesini Sümerler icat etmiştir.	D
Asurlular Kayseri Kültepe'de kurdukları koloni sayesinde Anadolu'ya yazıyı getirmişlerdir.	D
Hititlerle Mısırlar arasında gerçekleşen Kadeş Savaşı dünyanın ilk savaşidir.	Y


Bu cevaplara göre Ruşen aşağıdaki puanlardan hangisini almıştır?

- A) 5 B) 10 C) 15 D) 20 E) 25

9. Giray hazırladığı performans ödevinin sonunda; "Tarih öncesi dönemde insanlığın hayat tarzını tabiata karşı verdiği mücadeleyi sosyal ilişkilerini ve ekonomik uğraşlarını öğrenebilmek için bıraktıkları kalıntılar incelenmelidir." değerlendirmesinde bulunmuştur.

Giray'ın bu değerlendirmesine göre aşağıdaki bulgulardan hangisi bahsedilen dönemle ilgili değildir?

- A) Buğday fosilleri B) Taş baltalar
C) Metal paralar D) Demir mızraklar
E) İnsan fosilleri



894917

ÖĞRENCİ NO	YANITLAR
0 0 0 0 0 0	1 A B C D E 11 A B C D E
1 1 1 1 1 1	2 A B C D E 12 A B C D E
2 2 2 2 2 2	3 A B C D E 13 A B C D E
3 3 3 3 3 3	4 A B C D E 14 A B C D E
4 4 4 4 4 4	5 A B C D E 15 A B C D E
5 5 5 5 5 5	6 A B C D E 16 A B C D E
6 6 6 6 6 6	7 A B C D E 17 A B C D E
7 7 7 7 7 7	8 A B C D E 18 A B C D E
8 8 8 8 8 8	9 A B C D E 19 A B C D E
9 9 9 9 9 9	10 A B C D E 20 A B C D E

1.



Papanın Kutsal Roma Germen İmparatoru Şarlman'a taç giydirmesini gösteren bu görsele göre,

- I. Kilisenin siyasi yetkileri vardır.
- II. Halkın yönetime bağlılığı amaçlanmıştır.
- III. Kiliseler krallıkları egemenlikleri altına almıştır.

yorumlarından hangileri yapılabilir?

- A) Yalnız I
- B) Yalnız II
- C) I ve II
- D) I ve III
- E) II ve III

2. Kavimler Göçü'nün ardından Avrupa Kıtası'nın siyasi hayatına yön veren milletler arasında aşağıdakilerden hangisi gösterilemez?

- A) Vizigot
- B) Vandal
- C) Frank
- D) Kıpçak
- E) Germen

3. İlk ve Orta çağlarda yapılan hukuk kurallarında suçu işleyen suçluya verilen cezaların aşağıdakilerden hangisine göre değiştiği söylenemez?

- A) Suçlunun statüsüne
- B) Suçlunun isteğine
- C) Suçlunun cinsiyetine
- D) Suçlunun ekonomisine
- E) Suçun özelliğine

4. Orta Çağ Avrupası'nda süzerenler kendilerine sığınan köylü sınıfını korumak ve topraklarına katabilmek için sadık bir silahlı güce ihtiyaç duymuşlardır.

Bu durum aşağıdaki askerî gruplardan hangisinin ortaya çıkmasında etkili olmuştur?

- A) Şövalye
- B) Lejyon
- C) Sipahi
- D) Akıncı
- E) Sarıca

**5. I. Büyük Veba
II. Kavimler Göçü
III. Haçlı Seferleri**

Yukarıdaki gelişmelerden hangileri Orta Çağ Avrupası'nda nüfusun azalmasında etkili olmuştur?

- A) Yalnız I
- B) Yalnız II
- C) I ve II
- D) I ve III
- E) I, II ve III

6. Bizans olarak adlandırılan Doğu Roma İmparatorluğu Orta Çağ'da; Anadolu, Balkanlar, Mısır, Suriye, Filistin ve Kuzey Afrika coğrafyasında etkili olmuştur. Helenizm ve Ortodoksluk gibi kültürel bileşenler sonucu Bizans İmparatorluğu, Batı Roma İmparatorluğu'ndan farklı bir siyasi yapı hâline gelmiştir. Roma imparatorluğu bir çeşit cumhuriyet ile yönetilirken Bizans İmparatoru gücünü Tanrı'dan alan otokrat bir lider konumuna gelmiştir. Bu siyasi anlayışıyla Bizans imparatorları özellikle Sasani ve Helenistik Dönem monarşilerinden etkilenmiştir. Buna göre Bizans imparatoru, Hz. İsa'nın yeryüzündeki vekili olup sadece Hz. İsa'ya karşı sorumlu olmuştur.

Parçada altı çizili ifadelerle göre Bizans'ta aşağıdaki yönetim anlayışlarından hangisi görülmektedir?

- A) Demokrasi
- B) Oligarşi
- C) Teokrazi
- D) Monarşi
- E) Tiranlık

7. I. Kervansarayların işlevlerini gören bu yapılar önceleri kale vazifesi görmüşlerdir.
II. Aynı malı satan esnafların toplanma mekânıdır.
III. Bir malın toptan dağıtımının yapıldığı yerdir.
IV. Değerli malların satışının yapıldığı kapalı çarşı-lara verilen addır.

Bu açıklamaların ribat, bedesten, kapan ve arasta adlı mekânlarla eşleştirilmesi aşağıdakilerin hangisinde doğru verilmiştir?

	Ribat	Bedesten	Kapan	Arasta
A)	I	II	III	IV
B)	II	I	III	IV
C)	I	IV	III	II
D)	II	I	IV	III
E)	III	IV	II	I

8. I. Justinianus
II. Cengiz Han
III. Hammurabi

Yukarıdakilerden hangileri Orta Çağ'ın ünlü kanun koyucuları arasında gösterilebilir?

- A) Yalnız I B) Yalnız II C) I ve II
D) II ve III E) I, II ve III

9. Orta Çağ'da Bizans'ın başkenti Konstantinopolis birçok devletin ilgisini çekmiş ve birçok kez kuşatma altına alınmıştır.

Buna göre aşağıdakilerden hangisinin bu dönemde Konstantinopolis'i kuşatma altına aldığı söylenemez?

- A) Sasaniler B) Avarlar C) Bulgarlar
D) Emeviler E) Selçuklular

10. Orta Çağ'da Avrupa'nın etnik yapısının önemli oranda değişime uğramasında aşağıdaki olaylardan hangisi diğerlerinden daha çok etkili olmuştur?

- A) Kavimler Göçü'nün gerçekleşmesi
B) Haçlı Seferlerinin yaşanması
C) Batı Roma'nın yıkılması
D) Yüzyıl Savaşlarının yaşanması
E) Magna Charta'nın imzalanması

11. Orta Çağ'ın en işlek yolları olan İpek ve Baharat ticaret yollarının zamanla Müslümanların kontrolüne girmesi Avrupa'da ekonomik krizlere neden olmuştur.


Bu yollara egemen olup krizlerden kurtulmak isteyen Avrupalı devletler aşağıdaki faaliyetlerin hangisinde bulunmuştur?

- A) Haçlı Seferleri
B) Reform Hareketleri
C) Sanayi İnkılabı
D) Rönesans Hareketleri
E) Fransız İhtilali

12. Orta Çağ'da feodal yönetim anlayışı Avrupa'da yeni sınıflar ortaya çıkarmıştır.

Aşağıdakilerden hangisi bu sınıflardan biri değildir?

- A) Süzeren B) Vassal C) Burjuva
D) Lejyon E) Baron



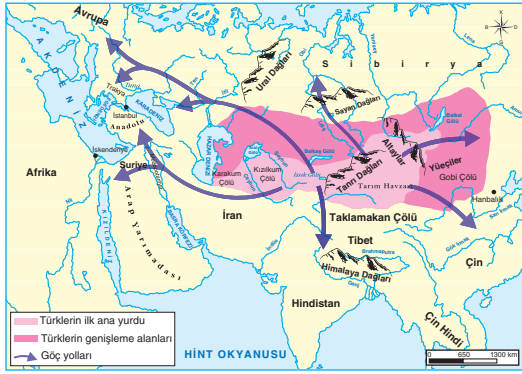
894918

ÖĞRENCİ NO	YANITLAR
0 0 0 0 0 0 0 0	1 A B C D E 11 A B C D E
1 1 1 1 1 1 1 1	2 A B C D E 12 A B C D E
2 2 2 2 2 2 2 2	3 A B C D E 13 A B C D E
3 3 3 3 3 3 3 3	4 A B C D E 14 A B C D E
4 4 4 4 4 4 4 4	5 A B C D E 15 A B C D E
5 5 5 5 5 5 5 5	6 A B C D E 16 A B C D E
6 6 6 6 6 6 6 6	7 A B C D E 17 A B C D E
7 7 7 7 7 7 7 7	8 A B C D E 18 A B C D E
8 8 8 8 8 8 8 8	9 A B C D E 19 A B C D E
9 9 9 9 9 9 9 9	10 A B C D E 20 A B C D E

1. Çin kaynaklarında Türk kelimesinin karşısında aşağıdaki kavramlardan hangisi yazmaktadır?

- A) Törelî B) Güçlü
C) Olgunluk çağı D) Miğfer
E) Türeyen

2.



Büyük Türk göçlerini gösteren bu haritaya göre Türklerin aşağıdaki bölgelerden hangisinde devlet kurma ihtimalleri daha düşüktür?

- A) Balkanlar
B) Kuzey Karadeniz
C) Anadolu
D) Sibiryâ
E) Güney Afrika

3. VIII. yüzyılda dikilen Orhun Kitabeleri ile ilgili aşağıdaki öğrencilerden hangisinin verdiği bilginin doğru olduğu söylenemez?

- A) Mira: Kültigin, Bilge Kağan ve Vezir Tonyukuk adına yazılmıştır.
B) Azra: Türkçe ve Çince yazılmıştır.
C) Hamza: Bugünkü Moğolistan sınırlarında bulunmuştur.
D) Selim: Wilhelm Thomsen tarafından dikilmiştir.
E) Deniz: Türk kültürü hakkında bilgi vermektedir.

4. Türk kelimesine VI. yüzyıldan itibaren farklı coğrafyalarda rastlanmaktadır.

Aşağıdakilerden hangisi bu coğrafyalardan biri değildir?

- A) Volga Nehri
B) Anadolu
C) Doğu Avrupa
D) Mısır, Suriye
E) Batı Avrupa

5. Orta Asya'da yapılan kazılarda elde edilen aşağıdaki bulgulardan hangisi kazı bölgesinin Hunlara ait olmadığını kesin kanıttır?

- A) At koşum takımları
B) Halı ve kilimler
C) Anıt ve kitabeler
D) Madenî eşyalar
E) Kıl çadırlar

6. İslamiyet'ten önceki dönemlerde tahta çıkan hükümdarın bu durumu halka duyurmak için gösterdiği alametler arasında aşağıdakilerden hangisi yoktur?

- A) Tuğ dikmek B) Kılıç kuşanmak
C) Hutbe okutmak D) Davul çalmak
E) Otağı kurmak

7.

Orta Asya'nın geniş bozkırlarının farklı bölgelerinde yapılan arkeolojik kazılar sonucunda yazıdan önceki döneme ait kültür merkezleri ortaya çıkarılmıştır. Özellikle kurgan olarak bilinen mezar odalarında önemli eserler ele geçirilmiştir. Bu eserler aracılığıyla MÖ IV. bin yılından itibaren oluşturulan ve değişik adlarla anılan kültürlerin özellikleri öğrenilmektedir. Daha sonraki atlı konargöçer Türk medeniyetinin temelini oluşturan kültürler vardır.

Türklerin bu kadar geniş coğrafyalara yayılmalarında;

- I. atı evcilleştirmeleri,
- II. göçebe olarak yaşamaları,
- III. kalabalık bir millet olmaları

özelliklerinden hangilerinin etkisinden söz edilebilir?

- A) Yalnız I B) Yalnız II C) I ve II
D) II ve III E) I, II ve III

8.

Orta Asya Türk devletlerinde devlet işlerinin görüldüğü ve karara bağlandığı kurultayın aşağıdaki yetkilerden hangisine sahip olduğu söylenemez?

- A) Kağanı görevden almak
B) Savaş ve barışa karar vermek
C) Dinî törenleri düzenlemek
D) Vergi oranlarını belirlemek
E) Töre koymak

9.

I.	Şaman	Gizli güçlerine inanılan din adamları
II.	Urug	Ailelerin birleşmesiyle oluşan sosyal yapı
III.	Toygun	Kurultaya katılan üyelerin genel adı
IV.	Kut	Hükümdarlara Tanrı'nın başışladığı ekonomik güç
V.	Anav	Orta Asya'daki en eski kültür bölgesi

Yukarıdaki kavramlardan hangisinin açıklaması karşısına yanlış verilmiştir?

- A) I B) II C) III D) IV E) V

10.

Devlet, hukuki bakımdan emretme hakkına ve yetkisine sahiptir. O emri yürütme gücüne sahip olan yüksek sosyal bir nizamdır. Ancak emretme hakkının itaat edenler tarafından meşru (hak yolu, doğru) kabul edilmesi gerekir. Aksi hâlde devlet yoktur, zorbalık vardır.

Bu bilgilerden hareketle Türk hükümdarlarının yetkileri aşağıdakilerden hangisi ile kısıtlanmıştır?

- A) Ordu B) Kurultay C) Hatun
D) Şaman E) Ataman

11.

Geniş bozkır sahalarında iklim ve coğrafya gereği sürekli hareket hâlinde olan konargöçerler toprağa bağlılığı değil soy aidiyetini birinci planda tutmuşlardır.

Bu durum Türklerde;

- I. dayanışma,
- II. ordu-millet anlayışı,
- III. birlikte hareket etme


unsurlarından hangilerini ön plana çıkarmıştır?

- A) Yalnız I B) Yalnız II C) I ve II
D) II ve III E) I, II ve III

12.

Aşağıdakilerden hangisi İslam öncesi Türklerin askerî sistemleri ile ilgili bir terim değildir?

- A) Tımar B) Süvari
C) Onluk sistem D) Subaşı
E) Turan taktiği



894919

ÖĞRENCİ NO	YANITLAR
0 0 0 0 0 0 0 0	1 A B C D E 11 A B C D E
1 1 1 1 1 1 1 1	2 A B C D E 12 A B C D E
2 2 2 2 2 2 2 2	3 A B C D E 13 A B C D E
3 3 3 3 3 3 3 3	4 A B C D E 14 A B C D E
4 4 4 4 4 4 4 4	5 A B C D E 15 A B C D E
5 5 5 5 5 5 5 5	6 A B C D E 16 A B C D E
6 6 6 6 6 6 6 6	7 A B C D E 17 A B C D E
7 7 7 7 7 7 7 7	8 A B C D E 18 A B C D E
8 8 8 8 8 8 8 8	9 A B C D E 19 A B C D E
9 9 9 9 9 9 9 9	10 A B C D E 20 A B C D E

1. İskit Türkleri tarafından ilk defa kullanılan bu araç Avarlar tarafından Avrupa'ya taşınmıştır. Eyerin iki yanında asılı bulunan ve at üzerinde dengede kalmayı sağlardı.

Bazı özellikleri verilen araç aşağıdakilerden hangisidir?

- A) Gem B) Nal C) Mıh
D) Üzengi E) Kırbaç

2. Orta Asya'da yapılan arkeolojik kazılar sonucunda yazıdan önceki döneme ait kültür merkezleri ortaya çıkarılmıştır. Özellikle kurgan olarak bilinen mezar odalarında önemli eserler ele geçirilmiştir. Bu eserler aracılığıyla MÖ IV. bin yılından itibaren oluşturulan ve değişik adlarla anılan kültürlerin özellikleri öğrenilmektedir. Daha sonraki atlı konargöçer Türk medeniyetinin temelini oluşturan kültürler vardır.

Bu bilgilere göre kurganlarda aşağıdakilerden hangisine rastlanması kesinlikle söz konusu değildir?

- A) Hayvan iskeletleri
B) Demir silahlar
C) Süs eşyaları
D) Dinî metinler
E) Yiyecek fosilleri

3. II. Kök Türk Devleti'nin yıkılmasında etkili olan boylar aşağıdakilerin hangisinde bir arada verilmiştir?

- A) Karluk, Basmil, Uygur
B) Oğuz, Hazar, Karluk
C) Karluk, Yağma, Çiğil
D) Çiğil, Basmil, Peçenek
E) Karluk, Oğuz, Çepni

4. Avar egemenliğine son vererek I. Kök Türk Devleti'ni kuran Türk hükümdarı aşağıdakilerden hangisidir?

- A) İstemi Yabgu B) Bumin Kağan
C) Mukan Kağan D) Tapo Kağan
E) Tardu Kağan

- 5.

Türklerde kağan, hem bütün devlet teşkilatının başı hem de toplumun lideri durumundaydı. O, devletin başı olarak iç ve dış siyaseti düzenler, savaş ve barışa karar verir, ordulara komutanlık eder, elçiler gönderir ve elçileri kabul ederdi. Ayrıca devlet teşkilatının her kademesindeki görevlileri tayin eder veya onları görevlerinden alırdı.

Bu bilgilerde Türk hükümdarının;

- I. yasama,
II. yürütme,
III. yargı

alanlarının hangilerindeki yetkilerinden bahsedilmiştir?

- A) Yalnız I B) Yalnız II C) Yalnız III
D) I ve II E) II ve III

- 6.



Bu haritaya göre Uygurlarla ilgili aşağıdakilerden hangisi söylenebilir?

- A) Yerleşik yaşama geçmişlerdir.
B) Çin'e karşı genişleme siyaseti izlemektedir.
C) Siyasi birliği sağlamışlardır.
D) Çin ile ticaret yapmaktadırlar.
E) Birçok milleti egemenlikleri altına almışlardır.