

1. Tarih, insan hafızasında hep geçmişe ait bir kavram olarak yer edinmiştir. Bunun sebebi, tarihin geçmişte yaşanan olayları konu edinmesidir. İngiliz tarihçi Collingwood'un (Kolinbud) dediği gibi "Geçmiş, bir anlamda bugün, hâlâ yaşayan bir zaman dilimidir." Geçmişte yaşanan olayların etkisi uzun süre devam edebilir. Bu yüzden günümüzdeki olayların açıklanmasında geçmiş, önemli bir yere sahiptir. İngiliz tarihçi Edward H. Carr "Tarih Nedir?" adlı kitabında tarihi, bugün ile geçmiş arasında bitmez bir diyalog olarak ifade etmektedir. İnsan, tarih bilimiyle geçmişini sorgulayarak geleceğine yön vermektedir.

Bu bilgilere göre tarih biliminin;

- I. zamanı anlamlandırma,
- II. toplumu yönlendirme,
- III. olaylar arasında ilişki kurma

konularından hangilerinde fayda sağladığı söylenebilir?

- A) Yalnız I B) Yalnız II C) I ve II
D) II ve III E) I, II ve III

2. Tarih öğretmeni dersinde "Tarihte meydana gelen kısa süreli gelişmelere olay, olaylara bağlı olarak ortaya çıkan uzun soluklu gelişmelere olgu denir." tanımını yaptıktan sonra öğrencilerinden olguya örnek vermelerini istemiştir.

Buna göre aşağıdaki öğrencilerden hangisi tarih öğretmenin sorusuna yanlış örnek vermiştir?

- A) Suna: Anadolu'nun Türkleşmesi
- B) Malik: Ulusçu düşüncenin güçlenmesi
- C) Soner: Haçlı Seferlerinin başlaması
- D) Sevgi: Sömürgeciliğin hız kazanması
- E) Soysal: İnsan haklarının artması

3.

Bazı yazarlar, şahidi olmadıkları olayları veya hiç görmedikleri memleketleri bizzat görmüş gibi anlatırlar. Aslında yazdıkları tamamen kendilerinden önce kaleme alınmış eserlere dayanmaktadır. Bu yalan ve mübalağada bazen o kadar ileri giderler ki aynı ya da birbirlerine çok yakın tarihlerde fakat birinden diğerine kısa zamanda ulaşılması imkânsız iki mekândaki olayların şahidi olduklarını dahi yazmakta tereddüt etmezler. Böylece kendilerini kolaylıkla ele vermiş olurlar.

Bu durumun tarihî eserlerin yazımında aşağıdakilerden hangisinin göz önünde bulundurulmasını zorunlu hâle getirdiği söylenemez?

- A) Objektif olma B) Yer-zaman gösterme
C) Gerçeğe ulaşma D) İnsanlığı aydınlatma
E) Deney ve gözlem

4.

Belge ve eserlerin kullanılmasında bazen problemler çıkabilir. Eldeki belgelerde araştırılan konu hakkında sınırlı veya yanlış bilgi olabilir, belgeler okunamayabilir. Her bir yazarın olaya farklı bakması, algılaması veya farklı anlatması mümkündür.

Bu durum aşağıdakilerden hangisini zorlaştırmaktadır?

- A) Mutlak doğruya ulaşmayı
- B) Yazılı belgeleri tespit etmeyi
- C) Kültürel hayatı korumayı
- D) Bütün kaynakları incelemeyi
- E) Farklı bilimlerden yararlanmayı

5.

İngiliz tarihçi John Tosh *Tarihin Peşinde* adlı eserinde tarihçinin görevini şu sözlerle ifade etmiştir: "İnceleyeceği çağın insanının kimliğine bürünüp dünyayı onun gözlerinden görerek ve mümkün olduğu kadar onun standartlarıyla değerlendirerek o insanın neyi niçin yaptığını bulmaktır."

John Tosh'un bu ifadelerine göre tarihçinin araştırması sırasında öncelikli olarak aşağıdakilerden hangisini yerinde kullanması gerekir?

- A) Zaman B) Belge C) Konu
D) Mekân E) İnsan

6. Tarihî olaylar, fen ve doğa bilimleri gibi tümdengelimi ve tümevarım yöntemleriyle kavranamaz. Tarihî olaylar arasında sıkı bir bağlantı kurmak, fizik ve doğa bilimlerindeki gibi yasalar oluşturmak mümkün değildir. Disiplinler arası iş birliğinin geliştiği günümüzde tarih biliminin ana uğraşı, incelenmesi ve açıklanması zaman alan karmaşık tarihî olayları diğer bilimlerden aldığı destekle ortaya koymaya çalışmaktır.

Bu durumun araştırmacıya;

- I. deney ve gözlem yapma,
- II. araştırmayı kolaylaştırma,
- III. daha doğru yargılara ulaşma

faidalarından hangilerini sağladığı söylenebilir?

- A) Yalnız I B) Yalnız II C) Yalnız III
D) I ve II E) II ve III

7.

Ben Yeni Çağ Kürsüsü'nde olmama rağmen seminerlerine ve derslerine giriyordum. Bir seminerinde Timur üzerinde tartışma başladı. Biliyorsunuz biz, Anadolu Türk tarihçiliğinde Timur'u yerin dibine batırırız. Fuad Bey'in seminerinde yine Timur üzerinde münakaşa ediyoruz, ben o zaman Barthold'un ve Fransız Bouvat'ın Timur üzerine kitabını okumuştum. Timur tarihinin objektif incelenmesi gerektiğini önce Zeki Velidi Togan ortaya atmıştır. Kendisi Anadolu doğumlu olmadığı, Kazan'dan geldiği için olaya farklı bakmış...

Bu bilgilere göre tarihçilerin aynı olayı farklı yorumlamasında aşağıdaki tarihe yardımcı bilimlerden hangisinin çalışma ilkelerinin göz önünde bulundurulmaması etkili olmuştur?

- A) Paleografi B) Coğrafya C) Nümismatik
D) Filoloji E) Kronoloji

8. Tarihî olayları değerlendirirken karşılaşılan temel sorunlardan biri de olaya tarafsız yaklaşamamasıdır.

Bu duruma aşağıdakilerden hangisinin engel oluşturduğu söylenemez?

- A) Tarihçinin belli bir ülkeye veya millete mensup olması
- B) Birçok bilim insanının tarihî konuları incelemesi
- C) İnançların, siyasi anlayışın ve alınan eğitimin insan zihnini etkilemesi
- D) Duyguların ön plana çıkması
- E) Kaynakların millî duygularla yorumlanması

9.

Tarih; toplumların başından geçen olayları zaman ve yer göstererek belgelere dayalı bir biçimde anlatan, bunların sebep ve sonuçlarını, birbirleriyle olan ilişkilerini objektif olarak ele alan sosyal bir bilimdir. Amaç olarak insanın kendisini konu alan tarih, yöntem olarak da kanıtların ortaya çıkarılmasını ve belirli bir yaklaşımla yorumlanmasını benimser.

Bu bilgilere göre günümüze yakın bir olayı daha objektif bir biçimde değerlendirmek için aşağıdaki kaynaklardan hangisini kullanmak araştırmacıyı daha doğru sonuçlara ulaştırır?

- A) Destanlar B) Çömlekler C) Fermanlar
D) Fotoğraflar E) Arkeolojik bulgular

10. Tarih, yöntem olarak diğer bilimlerden farklılık gösterir. Tarihî olaylar fen ve doğa bilimleri gibi tümdengelimi ve tümevarım yöntemleriyle kavranamaz.

Buna göre tarih bilimi;


- I. kesin yargılarda bulunma,
- II. genelleme yapma,
- III. yer-zaman gösterme

yöntemlerinden hangilerine başvuramaz?

- A) Yalnız I B) Yalnız II C) Yalnız III
D) I ve II E) I, II ve III

11. Siyasi belgeleri cins, şekil ve içerik olarak incelemek isteyen Aslı Öğretmen'in aşağıdaki tarihe yardımcı bilimlerin hangisinden yararlanması söz konusu değildir?

- A) Paleografi B) Antropoloji
C) Kimya D) Filoloji
E) Diplomatik



894737

ÖĞRENCİ NO	YANITLAR
1	11
2	12
3	13
4	14
5	15
6	16
7	17
8	18
9	19
10	20

1. Miladi takvim, MÖ ve MS olmak üzere iki bölüme ayrılır. MÖ tarihler günümüze yaklaştıkça rakamsal olarak küçülürken, MS tarihler günümüze yaklaştıkça rakamsal olarak büyür.



Bu tanıma göre aşağıdaki öğrencilerden hangisi tabloda günümüze en uzak tarihi doğru tespit etmiştir?

- A) Giray: MÖ 756
B) Zeynep: 1881
C) Elif: 2023
D) Tunç: MÖ 3200
E) Sahra: 375
2. Türk çocuğu ecdadını tanıdıkça daha büyük işler yapabilmek için kendisinde kuvvet bulacaktır. **Atatürk'ün bu sözü, tarih bilimi ile ilgili aşağıdakilerden hangisinin kanıtıdır?**
- A) Ulusal kimliği güçlendirdiğinin
B) İsyanların önüne geçtiğinin
C) Pozitif bilim olduğunun
D) Deney ve gözlem metodunu kullandığının
E) Birçok bilimle ilişki içinde olduğunun

3. Milletlerin ortak hafızası olan tarih ----
Bu cümle aşağıdakilerden hangisi ile sürdürülemez?
- A) millî kimliğin inşasında rol oynar.
B) ahlaki değerleri oluşturur.
C) toplumsal birlikteliği gerçekleştirir.
D) sınırları genişletmeye yardımcı olur.
E) vatan bilincinin güçlenmesini sağlar.

4.

Tarihin daima zamanların ışığı, olayların hazinesi, gerçeklerin tanığı, iyi nasihatlerin ve tedbirin kaynağı, davranışın ve adaletin kaidesi olarak değerlendirilmiş olması boşuna değildir. Tarih olmaksızın yaşadığımız asrın ve ülkenin sınırları içine hapsedilmiş, özel bilgilerimizin ve kendi düşüncelerimizin dar çemberi içine sıkıştırılmış bir şekilde daima, dünyanın geri kalan kısmına karşı bizi yabancı bırakan bir tür çocukluk çağında ve bizden önce gelen ve bizi çevreleyen her şeye karşı derin bir cehalet içinde kalmaktayız.

Bu bilgilere göre tarih biliminin insana;

- I. geniş düşünme becerisi,
II. iç çatışmaların önlenmesi,
III. zamanın tüm yönleriyle anlandırılması

unsurlarından hangilerini kazandırdığı söylebilir?

- A) Yalnız I B) Yalnız II C) I ve II
D) I ve III E) I, II ve III

5. Miladi takvimde Hz. İsa'nın doğumu başlangıç noktası (milat) olarak kabul edilir. Güneş yılı esasına göre düzenlenen miladi takvimde bir yıl 365 gün 6 saattir. Her yıl artan 6 saatlik süreler dört yılda bir toplanır ve elde edilen 24 saat, bir gün olarak dördüncü yılın şubat ayına eklenir. Bu nedenle aslında 28 günden oluşan şubat ayı her dört yılda bir 29 gün sürer ve o yıla artık yıl adı verilir. Ülkemizde cumhuriyetin ilanından sonra dış ilişkilerde uyumu sağlamak amacıyla çeşitli alanlarda yenilikler yapılmıştır. Kanun gereği 1 Ocak 1926 tarihinden itibaren dünyanın birçok yerinde olduğu gibi ülkemizde de miladi takvim kullanılmaya başlanmıştır.

Bu bilgilere göre miladi takvim ile ilgili,

- I. Evrensel bir icattır.
II. Mali alanda düzenlemeler getirmiştir.
III. Uzun yıllardır Türkiye'de kullanılmaktadır.

yargılarından hangilerine ulaşılabilir?

- A) Yalnız I B) Yalnız II C) I ve III
D) II ve III E) I, II ve III

6. Tarih; toplumların başından geçen olayları zaman ve yer göstererek belgelere dayalı bir biçimde anlatan, bunların sebep ve sonuçlarını, birbirleriyle olan ilişkilerini objektif olarak ele alan sosyal bir bilimdir. Amaç olarak insanın kendisini konu alan tarih, yöntem olarak da kanıtların ortaya çıkarılmasını ve belirli bir yaklaşımla yorumlanmasını benimser. Geçmiş ve yaşadığımız dönemdeki insanın tecrübesinin tamamı o günün değer yargısına göre değerlendirilmelidir.

Tarihçinin olayın geçtiği dönemin değer yargılarını ön plana alması;

- I. objektif olmak,
II. milletini yüceltmek,
III. doğru değerlendirme yapmak

amaçlarından hangilerine yöneliktir?

- A) Yalnız I B) Yalnız II C) I ve III
D) II ve III E) I, II ve III

7. Tarihî olaylar farklı zaman dilimlerinde yaşansa da süreklilik gösterdiği için tarihin tanımında yer alan aşağıdaki unsurlardan hangisinin dikkate alınması bir zorunluluktur?

- A) İnsan ilişkilerini inceleme
B) Yer belirtme
C) Neden-sonuç ilişkisi kurma
D) Objektif olma
E) Belgelere dayandırma

8. Tarihî çağlar, toplumları etkileyen önemli olaylar çerçevesinde tarihin dönemlendirilmesinde kullanılan kesitlerdir.

Buna göre tarihî çağların belirlenmesinde aşağıdakilerden hangisinin etkisinden söz edilemez?


- A) Kavimler Göçü B) Yazının icadı
C) İstanbul'un Fethi D) Fransız İhtilali
E) Ateşin icadı

9. Atatürk'ün; "Tarih yazmak yapmak kadar mühimdir. Yazan yapana sadık kalmazsa değişmeyen hakikatler insanlığı şaşkırtacak bir hâl alır." sözü tarih araştırmalarında ---- kuralının göz ardı edilemeyeceğinin bir kanıtıdır.

Bu parçada boş bırakılan yere öncelikle aşağıdakilerden hangisi yazılabilir?


- A) millî bilinci aşılama
B) objektif olma
C) yer-zaman gösterme
D) bütünlüğü koruma
E) belgelere dayandırma

10. Yüzyıl kavramı teorik olarak sonu çift sıfır ile biten bir yılda başlar ve "yüzyıllık dönem" anlamında kullanılır. Bu kavram, XVI. yüzyılda ortaya çıkmıştır.



Bu bilgilere göre tarihin ilk yazılı antlaşması olan Kadeş Barışı'nın gerçekleşme tarihi olan MÖ 1280'in yüzyıl, yarım ve çeyrek olarak ifadesi aşağıdakilerin hangisinde doğru verilmiştir?

	Yüzyıl	Yarım	Çeyrek
A)	XIII	I	I
B)	XIII	II	IV
C)	XII	I	I
D)	XVI	I	II
E)	XIII	II	III



894738

ÖĞRENCİ NO	YANITLAR
0 0 0 0 0 0	1 A B C D E 11 A B C D E
1 1 1 1 1 1	2 A B C D E 12 A B C D E
2 2 2 2 2 2	3 A B C D E 13 A B C D E
3 3 3 3 3 3	4 A B C D E 14 A B C D E
4 4 4 4 4 4	5 A B C D E 15 A B C D E
5 5 5 5 5 5	6 A B C D E 16 A B C D E
6 6 6 6 6 6	7 A B C D E 17 A B C D E
7 7 7 7 7 7	8 A B C D E 18 A B C D E
8 8 8 8 8 8	9 A B C D E 19 A B C D E
9 9 9 9 9 9	10 A B C D E 20 A B C D E

1. **Tanım:** Tarih; toplumların başından geçen olayları zaman ve yer göstererek, belgelere dayalı bir biçimde anlatan, bunların sebep ve sonuçlarını, birbirleriyle olan ilişkilerini objektif olarak ele alan sosyal bir bilimdir.

Durum: Araplar ile Çinliler arasında meydana gelen Talas Savaşı'nda (751) Çinliler ağır bir mağlubiyete uğradı. Çinliler bu yenilgiden sonra Batı Türkistan'a hâkim olma emellerinden vazgeçmek zorunda kaldı. Türk boyları Çin baskısından kurtuldu. Batı Türkistan'da sarsılan Türk nüfuzu yeniden kuruldu. Türk-Arap mücadelesi Talas Savaşı'ndan sonra yerini dostluğa bıraktı. Sağlanan bu barış ortamında İslâmiyet'in Türkler arasında yayılması hızlandı.

Tanım ve durum karşılaştırıldığında tanımda yer alan unsurlardan hangisine durumda değinilmemiştir?

- A) Zaman B) Yer
C) Belge D) Toplumsal olaylar
E) Neden-sonuç ilişkisi

2. Millî bilinci oluşturarak geçmişte bir arada yaşamış ve gelecekte de bir arada yaşamak isteyen toplumun, birlik ve beraberlik içinde olmasını sağlayan tarih, toplumdaki manevi değerlerin unutulmamasında ve gelişmesinde önemli rol oynar.

Bu açıklamaya göre tarih bilimi bir kelime ile özetlenirse bu kelime aşağıdakilerden hangisi olabilir?

- A) Tecrübe B) Zaman C) Geçmiş
D) Yöntem E) Hafıza

3. **Tarihî olaylarla ilgili doğru analizlerin yapılabilmesi için;**

- I. birçok kaynağa başvurma,
II. olayların gerçekleşme zamanını tespit etme,
III. olaylar üzerinden belli bir zaman geçmesini bekleme

yöntemlerinden hangilerine başvurulması bir zorunluluktur?

- A) Yalnız I B) Yalnız II C) Yalnız III
D) I ve II E) I, II ve III

4. Tarihteki en eski Türk devleti Hunlar kabul edilmekle beraber, MÖ 1050-247 yılları arasında Çin'de kurulmuş olan Chou Devleti'nin Türklerle alakalı olabileceği çeşitli deliller gösterilerek ispat edilmeye çalışılmıştır. Hun adının MÖ 1000 yıllarının başında ortaya çıktığı ileri sürülmüş olmasına rağmen, Hun birliğinin teşekkülü MÖ IV. asırdan itibaren başlamakta ve ilk defa kaynaklarda MÖ 318 yılında yapılan bir antlaşma vesilesiyle zikredilmektedir. Daha sonra Hunlar, Asya'nın en güçlü devleti hâline geldiler ve Çinliler, Türklerle karşı Çin Seddi'ni yaptılar ama yine de binlerce kilometre uzunluğundaki bu duvar Türklerin üzerinden atlamasına mâni olamadı. Bununla beraber bazı ilim insanları bu durumun Türklerin lehine olduğunu savunmaktadır.

Bu bilgilere göre aşağıdakilerden hangisine ulaşılmaz?

- A) Tarih yoruma açık bir bilimdir.
B) Tarihte tek bir doğru yoktur.
C) Tarih araştırmaları bilim insanlarına özgü olmalıdır.
D) Tarihte kesin yargılar yoktur.
E) Tarihî bilgiler zamanla değişime uğrayabilir.

5.

Millî ve toplumsal kimliğin oluşmasında dil ana et-kendir. Bunun yanında tarih birliği, dinî inanışlar, devlet yapıları, coğrafi birliktelik, musiki ve ülkü birliği de bu şuurun oluşmasında önemlidir. Tarih bilimi sayesinde geçmiş hakkındaki aktarımlar, milletlerin ortak hafızasını biçimlendirir.

Buse Öğretmen, bu parçayı sınıfta okuduktan sonra öğrencilerine "Tarihçi, araştırma yaparken hangi bilimlerden yararlanmalıdır?" sorusunu sorar.

Bu soruya,

Ahmet: Kronoloji **Tunç:** Filoloji

Murat: Etnografya **Sevilay:** Sosyoloji

cevaplarını verir.

Buna göre Buse Öğretmen'in sorusuna doğru cevap veren öğrenciler aşağıdakilerin hangisinde verilmiştir?

- A) Ahmet ve Tunç B) Ahmet ve Murat
C) Tunç ve Murat D) Tunç, Murat ve Sevilay
E) Ahmet, Tunç, Murat ve Sevilay

6.

İlk olarak Eski Yunanda MÖ V. yüzyılda yaşamış olan Herodotos'un (Herodot) yazdığı *Tarih (Historia)* bu türün ilk örneğidir. Bu tür tarih yazıcılığında hikâye ve efsanelerle dolu bilgiler nakledilir.

Öğretici tarzda eser veren tarihçiler, mensup oldukları toplumu harekete geçirerek millî birlik ve ahlaki değerleri geliştirmeyi istemişlerdir. Bu tarz tarih yazıcılığında topluma fayda sağlamak amaçlanır.

Araştırmacı tarih yazımı XIX. yüzyılda doğmuştur. Bu tarz tarih yazıcılığında tarihî olaylar tek bir sebebe dayandırılmamış; dönemin toplumsal, ekonomik, siyasi, dinî, kültürel yapıları ayrıntılarıyla ele alınmıştır.

Bu bilgilere göre tarih yazımının zaman içerisinde değişime uğramasında;

- I. insan zihninin değişmesi,
- II. toplumların gelişme göstermesi,
- III. bilimsel yöntemlerin gelişmesi

durumlarından hangilerinin etkili olduğu söylenebilir?

- A) Yalnız I B) Yalnız II C) I ve II
D) II ve III E) I, II ve III

7.

Tarih; geçmişteki insanların değer yargılarını, olaylara ve dünyaya nasıl baktıklarını ve ne hissettiklerini anlamada yardımcı olur.

Buna göre tarih biliminin, insanın aşağıdaki özelliklerinden hangisini geliştirdiği savunulabilir?

- A) Empati kurma B) Sempatik olma
C) Okuduğunu anlama D) Zamanı yorumlama
E) Doğayı koruma

8.

Tarihî olaylar belli bir mekânda gerçekleştiği için tarihin tanımında yer alan aşağıdaki unsurlardan hangisinin dikkate alınması bir zorunluluktur?

- A) İnsan ilişkilerini inceleme
B) Yer belirtme
C) Neden-sonuç ilişkisi kurma
D) Objektif olma
E) Belgelere dayandırma

9.



Çatalhöyük'te sezonun kazıları heyecan verici buluntularla sona erdi. MÖ 6700 yıllarına ait olduğu düşünülen, iki tarafında insan yüzü bulunan toprak kabın ilk parçalarına 2006 kazılarında çöp yığını içinde rastlandı. İnsan yüzünü tamamlayan kilit parçalarına ise 2007 Temmuz ayındaki kazılar sonucunda ulaşıldı. Parçaların birleştirilmesiyle ana hatları ortaya çıkan kabın insan yüzü kabartmaları arasındaki iki boğa figürü bulunmaktaydı. Kazı arkeologlarından biri, "Geçen sezon ulaştığımız parçalardan, çömleğin sivri iki kenarındaki kabartmaların insan yüzüne ait olduğu anlaşılıyordu." dedi.

Bu bilgiler aşağıdakilerden hangisinin kanıtıdır?

- A) Tarihçi yargı bildirmede acele etmemelidir.
B) Yazılı kaynaklar tarihi değiştirebilir.
C) Tarihçi, olayları kendi zaman dilimine göre değerlendirmelidir.
D) Tarih araştırmalarında her dönem aynı yöntemler kullanılmamalıdır.
E) Deney ve gözlem tarihe önemli bir değer katar.



894739

ÖĞRENCİ NO	YANITLAR	
0	1	11
1	2	12
2	3	13
3	4	14
4	5	15
5	6	16
6	7	17
7	8	18
8	9	19
9	10	20

1. İnsanoğlu, madenleri işlemeye başlamasıyla taşınan göre daha dayanıklı, sivri ve kesici silahlar yapmaya başladı. Atı evcilleştirdi ve at arabasını yaptı. Zamanla bunları komşu devletlere üstünlük sağlamak adına savaş meydanlarında kullanan devletler, ordu ve komutanlarının gücü nispetinde büyük topraklara hükmetti. Bu devletler farklı ırkları, milletleri ve kültürleri yönetimleri altında birleştirerek imparatorluk görünümünü kazandı.
- Bu bilgilere göre imparatorlukların kurulmasında etkili olan en temel unsur aşağıdakilerden hangisidir?**
- A) Teknolojinin gelişmesi
B) Madenlerin işlenmesi
C) Yerleşik yaşama geçilmesi
D) Hayvanların evcilleştirilmesi
E) Kültürlerin birleştirilmesi
2. Hititlerde kralın yanında Pankuş adında bir meclis vardır. Kral alacağı kararlarda bu meclise danışmıştır. Tavananna denilen kraliçe de yönetimde etkilidir.
- Bu bilgilere göre Hititlerde aşağıdaki yönetim anlayışlarından hangisinin güçlü olduğu söylenebilir?**
- A) Oligarşi
B) Teokrazi
C) Otokrazi
D) Meşrutî monarşi
E) Mutlak monarşi
3. Persler Anadolu'yu işgal ettikten sonra Anadolu'daki birçok kültürel öğeyi kendi ülkelerine taşımışlardır.
- Bu durumun nedeni aşağıdakilerden hangisidir?**
- A) Anadolu'nun insan yaşamına daha elverişli olması
B) Anadolu'da yüksek bir medeniyetin olması
C) Perslerin yazıyı Anadolu'dan almaları
D) Perslerin hoşgörülü bir toplum yapısına sahip olması
E) İlk medeniyetlerin Anadolu'da kurulması
4. Ülkeleri dışında ele geçirilen toprakları kendilerine bağlayarak bazen de kendi vatandaşlarını o bölgeye yerleştirerek genellikle ticari faaliyetlerde kullanmak amacıyla oluşturulan idarelere "koloni" denir. Bu kolonilerin devletin idaresinde aktif olarak kullanılmasına da "kolonicilik" denir.
- Erdem Öğretmen, bu parçayı sınıfta okuduktan sonra öğrencilerine "Uygarıklar niçin kolonicilik yapar." sorusunu sormuştur.
- Bu soruya aşağıdaki öğrencilerden hangisi yanlış cevap vermiştir?**
- A) Vefa: Ham madde ve pazar bulma
B) Çiğdem: Artan nüfusa yurt bulma
C) Duygu: Köle kaynağına ulaşma
D) Ayşenur: Asker ihtiyacını karşılama
E) Cemil: Yönetim anlayışını değiştirme
5. İbn Haldun'un "Coğrafya kaderdir." sözüne aşağıdaki gelişmelerden hangisi kanıt olarak sunulamaz?
- A) Mısır medeniyetinin Nil Deltası'nda hayat bulması
B) Mezopotamya'da kurulan Sümerlerin zigguratları inşa etmesi
C) Sakarya havzasında kurulan Friglerin tarımla uğraşması
D) Dağlık bir bölgede kurulan Yunanların deniz koloniciliği yapması
E) Doğu Anadolu'da kurulan Urartularda madencilik gelişmesi
6. İlk Çağ'da Anadolu uygarlıklardan olan Hititler kültürel yönden Asur, İyonlar ve Yunan etkisinde kalmış; Mısır ve Girit uygarlıkları kendine özgü geliştirmiştir.
- Bu farklılıkların yaşanmasında öncelikli etkiye sahip olan unsur aşağıdakilerden hangisidir?**
- A) Siyasi yapılanma
B) Dinî inançlar
C) Ekonomik durum
D) Soy aidiyeti
E) Coğrafi konum

7. Sümer şehir devletlerinden Uruk'taki büyük tapınaktan çıkarılan kil tabletlerde tahıl çuvallarına ve büyükbaş hayvanların sayılarını ifade eden listelere rastlanmıştır. Bu durum, yazının tapınaklarda depolanan malların kaydını tutma ihtiyacının bir sonucu olduğunu göstermektedir. Sümerler çivi yazısı adıyla bilinen bu yazıyı üçgen uçlu bir kalem kullanarak yumuşak kil tabletler üzerine yazdılar. Ardından tabletleri fırınlarda pişirerek sağlamlaştırdılar.

Bu bilgilere göre yazının icadının aşağıdaki alanlardan hangisindeki ihtiyaçtan doğduğu söylenebilir?

- A) Ekonomi B) Sanat C) Yönetim
D) Dinî E) Ordu

8. Mısır'da Nil Nehri'nin taşma zamanının tespit edilememesi arazi sınırlarının kaybolmasına ve vergi gelirlerinin doğru tespit edilememesine neden oluyordu. Mısırlılar bu sorunu çözümlenebilmek için ---- bilimlerinde gelişme göstermişlerdir.

Bu parçada boş bırakılan yere;

- I. astronomi,
II. matematik,
III. geometri

bilimlerinden hangileri getirilebilir?

- A) Yalnız I B) Yalnız II C) Yalnız III
D) I ve II E) I, II ve III

9. İlk Çağ medeniyetlerinden biri olan İyonlarda bilimsel hayatın çok canlı olmasında aşağıdakilerden hangisinin etkisinden söz edilemez?

- A) Halka dinsel özgürlük tanınmaları
B) Ekonomik olarak zengin olmaları
C) Anadolu medeniyeti olmaları
D) Farklı medeniyetlerle ilişki kurmaları
E) Siyasi baskıya maruz kalmamaları

10. I. Tanrıları adına anallar yazmaları
II. Çevre uygarlıkların tanrılarına tapmaları
III. Tanrılarını insan şeklinde düşünmeleri


Hititlerin yukarıdaki özelliklerinden hangileri dinsel hoşgörünün varlığına kanıt gösterilebilir?

- A) Yalnız I B) Yalnız II C) Yalnız III
D) I ve II E) II ve III

11. Büyük İskender, Doğu'nun gizemli dinlerinden etkilenmiş ve Mısır'da Amon-Ra rahipleri tarafından tanrı-kral ilan edilmiştir. Yine Batı Anadolu'da Didim Apollon Tapınağı kâhini tarafından "Zeus'un oğlu" olarak adlandırılmıştır.

Büyük İskender'in bu tutumunun amacı aşağıdakilerden hangisidir?

- A) Gücünün meşruiyet kaynağını artırma
B) Halkın dinini değiştirme
C) Tek tanrılı dinleri yayma
D) Savaşları belli bir merkezden yönetme
E) Kültürel hayatı canlandırma



894740

ÖĞRENCİ NO	YANITLAR
0 0 0 0 0 0	1 A B C D E 11 A B C D E
1 1 1 1 1 1	2 A B C D E 12 A B C D E
2 2 2 2 2 2	3 A B C D E 13 A B C D E
3 3 3 3 3 3	4 A B C D E 14 A B C D E
4 4 4 4 4 4	5 A B C D E 15 A B C D E
5 5 5 5 5 5	6 A B C D E 16 A B C D E
6 6 6 6 6 6	7 A B C D E 17 A B C D E
7 7 7 7 7 7	8 A B C D E 18 A B C D E
8 8 8 8 8 8	9 A B C D E 19 A B C D E
9 9 9 9 9 9	10 A B C D E 20 A B C D E

1. Sümer çivi yazısı geniş bir yayılma alanı bularak Mısır, Anadolu, Suriye, İran ve Akdeniz havzasındaki pek çok kavim tarafından öğrenildi. Mezopotamyalılar ile yaptıkları ticaret sırasında yazıyı öğrenen Mısırlılar hiyeroglif adıyla bilinen, kendilerine özgü resim yazısını kullandılar. Yazılarını da Nil Nehri kıyısında yetişen papirüs bitkisinin yapraklarından ürettikleri malzemeler üzerine yazdılar.
- Bu bilgilere göre,**
- Yazı gelişimini tamamlamıştır.
 - Hiyeroglif yazının temeli Mezopotamya uygarlıklarına dayanır.
 - Mısırlılar yazıyı taşınabilir hâle getirmiştir.
- Yargılarından hangilerine ulaşılabilir?**
- A) Yalnız I B) Yalnız II C) Yalnız III
D) I ve II E) II ve III
2. Tarih öncesi dönemde ateşin kontrol altına alınması önemli bir dönüm noktası olmuştur. Ateş öncelikle ---- kullanılmıştır.
- Bu parça aşağıdakilerden hangisiyle tamamlanamaz?**
- yiyecekleri pişirmek için
 - çanak çömlek yapmak için
 - toprağı işlemek için
 - madenleri işlemek için
 - vahşi hayvanlardan korunmak için
3. Tarih öncesi devirlerin başlangıç ve bitiş zamanları bölgelere göre farklılıklar gösterir.
- Bu durum aşağıdakilerden hangisine neden oluşturmuştur?**
- Tarih öncesi devirlerin birbirinden ayrıştırılmasına
 - Bazı toplumların geri kalmasına
 - Toplumların birbiriyle çatışmasına
 - Üretim faaliyetlerinin düzenlenmesine
 - Kabile anlayışının devam etmesine

4. İnsanlık tarihinin en uzun devresini oluşturan tarih öncesi dönemde insanlar tabiata bağlı bir hayat sürdürdüler. İlk zamanlarda insanlar orman ve göl kenarlarında yaşarken havaların soğuması ve buzulların güneye doğru ilerlemesi üzerine daha elverişli yerlere sığınmak zorunda kaldılar. Henüz hayvanları avlayacak silahları olmadığı için yabani meyveler, otlar ve bitki kökleriyle beslendiler. Yiyecek bulmak için bütün gün dolaşan insanlar gece olunca mağaralar, kuytu yerler ve ağaç kovukları gibi doğal barınaklara çekildiler. Böylece soğuktan, fırtınadan, kardan, yağmurdan ve diğer dış tehlikelerden korunmaya çalıştılar.

Bu bilgilere göre tarih öncesi dönem insanının öncelikleri arasında;

- barınma,
- madenleri işleme,
- karnını doyurma

durumlarından hangileri bulunmaktadır?

- A) Yalnız I B) Yalnız II C) Yalnız III
D) I ve II E) I ve III

5. Anadolu çoğu zaman bir açık hava müzesi olarak tanımlanır.

Bu duruma Anadolu'nun aşağıdaki özelliklerinden hangisi kanıt gösterilemez?

- Birçok uygarlığa ev sahipliği yapması
- Göç yolları üzerinde bulunması
- İnsan yaşamına uygun bir coğrafya olması
- Bereketli topraklara sahip olması
- Monarşik yönetimlere ev sahipliği yapması

6. Tarih öncesi çağlarda, insanların kesme, delme ve kazma amaçlı aletler yapmalarından yola çıkarak insanoğlunun;

- avcılık,
- tarım,
- ticaret

ekonomik modellerinden hangilerini benimsemiş olduğu söylenebilir?

- A) Yalnız I B) Yalnız II C) I ve II
D) I ve III E) I, II ve III

7.



Bu haritadaki uygarlıkların kuruldukları coğrafyalar göz önüne alınırsa öncelikle aşağıdaki alanların hangisiyle uğraştıkları söylenebilir?

- A) Tarım B) Ticaret C) Madencilik
D) Avcılık E) Sanayi

8. Perslerin;

- I. krallarının güçlerini Tanrı Ahuramazda'ya dayandırmaları,
II. posta teşkilatını kurmaları,
III. ülkeyi satraplıklara ayırmaları

uygulamalarından hangilerinin merkezî yönetim anlayışını güçlendirmeye yönelik olduğu söylenebilir?

- A) Yalnız I B) Yalnız II C) I ve II
D) I ve III E) I, II ve III

9.

Asurlularda bir kral zorla başa geçse bile kendinden önceki krallarla bir akrabalık bağı kurma gayreti içinde olurdu. Mezopotamya'da Sümerler, Babilliler ve Asurlular ise dönem dönem siyasi güçlerini kaybetmiş fakat aradan birkaç yüzyıl geçtikten sonra yeniden kurulmuş ve güçlenmişlerdir. Siyasi güçlerin yeniden kazanılma durumu Mezopotamya'da Ur, İssin, Babil, Kassit, Kalde gibi sülalelerin soy dayanışmasının bir sonucudur.

Asurlularda kralların bu yöntemlere başvurmasında etkili olan unsur aşağıdakilerden hangisidir?

- A) Devlete yeni kaynaklar bulma
B) Siyasi otoriteyi güçlendirme
C) Millî ve demokratik bir yönetim sergileme
D) Akrabalık ilişkilerini güçlendirme
E) Başka devletlere üstünlük sağlama

10. Tuna Öğretmen, öğrencisi Helin'e İlk Çağ uygarlıkları ile ilgili "Doğru (D)-Yanlış (Y)" etkinliği yapmak istemiştir. Bu etkinlikte Tuna Öğretmen her soruyu 20 puan olarak değerlendirmiştir.

	Takvimlerin Özellikleri	D/Y
I.	Şehir devletleri şeklinde örgütlenen Sümerlerde siyasi birlik kurulamamıştır.	D
II.	Hititlerin tanrılarına hesap vermek için anallar yazmaları tarihî çağlara girdiklerinin kanıtıdır.	D
III.	Yunanistan'daki sınıf çatışmaları yeni yasalar yapılmasına ortam hazırlamıştır.	Y
IV.	Sümerler yazıyı icat ederek tarihî çağların temellerini atmışlardır.	D
V.	Perslerin yaptıkları Kral Yolu, Doğu-Batı toplumlarının etkileşimini artırmıştır.	D


Bu cevaplara göre Helin etkinlikten aşağıdaki puanların hangisini almıştır?

- A) 20 B) 40 C) 60 D) 80 E) 100

11. Bir Anadolu uygarlığı olan Hititlerde devlet meseleleri Pankuş Meclisinde karara bağlanırdı. Bu mecliste bazı durumlarda alınan kararlar kralı bağlamazdı.

Bu parçada altı çizili cümle, Pankuş Meclisinin aşağıdaki özelliklerden hangisine sahip olduğuna kanıt oluşturur?

- A) Danışma meclisi gibi hareket ettiğine
B) Halkın isteklerini dikkate aldığına
C) Demokratik kararlar verdiğiğine
D) Millî kimliği önemseydiğine
E) Güçler ayrılığı ilkesini benimsediğine



894741

ÖĞRENCİ NO	YANITLAR
0 0 0 0 0 0	1 A B C D E 11 A B C D E
1 1 1 1 1 1	2 A B C D E 12 A B C D E
2 2 2 2 2 2	3 A B C D E 13 A B C D E
3 3 3 3 3 3	4 A B C D E 14 A B C D E
4 4 4 4 4 4	5 A B C D E 15 A B C D E
5 5 5 5 5 5	6 A B C D E 16 A B C D E
6 6 6 6 6 6	7 A B C D E 17 A B C D E
7 7 7 7 7 7	8 A B C D E 18 A B C D E
8 8 8 8 8 8	9 A B C D E 19 A B C D E
9 9 9 9 9 9	10 A B C D E 20 A B C D E

Taş Devri	
Eski Taş Çağı (Paleolitik)	MÖ 2,5 milyon-MÖ 16 bin
Orta Taş Çağı (Mezolitik)	MÖ 16 bin-MÖ 9 bin
Yeni Taş Çağı (Neolitik)	MÖ 8500-MÖ 5800
Maden Devri	
Bakır Çağı (Kalkolitik)	MÖ 5800-MÖ 3400
Tunç Çağı	MÖ 3400-MÖ 1200
Demir Çağı	MÖ XIII. yüzyıl-MÖ 330

Tablodaki bilgilere göre,

- I. Maden Devri, Taş Devri'nden çok daha kısa sürmüştür.
- II. Eski Taş Çağı; Orta Taş ve Yeni Taş çağlarının toplamından daha geniş bir zaman dilimini kapsamaktadır.
- III. İnsanlık, tarih öncesi çağlarda yazıyı kullanmamıştır.

Yorumlarından hangileri doğrudur?

- A) Yalnız I B) I ve II C) I ve III
D) II ve III E) I, II ve III

**İlk Çağ uygarlıklarına ait bu haritaya göre,**

- I. Asurlular Anadolu uygarlıklarıyla komşudur.
- II. Fenikelilerle Mısırlılar çatışma hâlinindedir.
- III. Doğu Akdeniz, tüccar medeniyetler için uygun bir coğrafyadır.

İfadelerinden hangilerine ulaşılabilir?

- A) Yalnız I B) Yalnız II C) I ve III
D) II ve III E) I, II ve III

3. Yunan medeniyetinin ortaya çıktığı coğrafyanın, dar bir sahil şeridinde sahip olması ve yüksek dağlarla birbirinden ayrılması nedeniyle burada merkezî bir devlet kurulamamıştır.

Bu bilgiye göre Yunanistan'daki devlet yapısının oluşumunu aşağıdakilerden hangisi etkilemiştir?

- A) Kültürel unsurlar B) Dinî inançlar
C) Millî değerler D) Yönetim tarzı
E) Coğrafi yapı

4. Tarihî çağların başladığı yer olan Mezopotamya'da ekonomik hayatın temeli tarımdı. Kuraklık ihtimaline karşı ürünün depolanması ve dağıtılması amacıyla Sümerler, tapınaklarını depo olarak kullandılar. Bu ürünleri kayıt altına almak için kullanılan semboller sayesinde çivi yazısı icat edildi. Mezopotamya'da medeniyetin gelişimi yazının bulunmasıyla hız kazandı. İhtiyaçları karşılamak adına yapılan uzak mesafeli ticaret, bölge ekonomisi için hayati bir rol oynuyordu. Bu ticari faaliyetler, Mezopotamya medeniyetinin başka bölgelere yayılmasına da yardımcı olmuştur.

Bu bilgilerden çıkartılabilecek en kapsamlı yargı aşağıdakilerden hangisidir?

- A) Medeniyetlerin ekonomik yaşamında coğrafya belirleyici bir unsurdur.
B) Sümerler çevrelerindeki uygarlıklara göre daha çok gelişmişlerdir.
C) İhtiyaçlar bilimsel gelişmeleri engellemiştir.
D) Tapınak ekonomisi özel mülkiyet anlayışını güçlendirmiştir.
E) Mezopotamya uygarlıkları tarıma uygun bir coğrafyada kurulmuşlardır.

5.



Bu iki haritaya göre,

- I. İmparatorluklar birbirlerinin ardı sıra kurulmuşlardır.
- II. Romalılar, İskender İmparatorluğu'ndan daha farklı bölgeleri ele geçirmişlerdir.
- III. Akdeniz, iki imparatorluk için de genişleme alanı olmuştur.

yorumlarından hangileri yapılabilir?

- A) Yalnız I B) Yalnız II C) Yalnız III
D) II ve III E) I, II ve III

6.

Hammurabi Kanunları hem daha önce yapılmış olan kanunların ve örf-âdet hukukunun bir derlemesiyle hem de zamanın ihtiyaçları dikkate alınmasıyla oluşturulmuştur. 282 maddeden oluşan bu kanunların ön söz kısmında Baştanrı Marduk hakkında övücü sözler bulunmakta ve Marduk ile Adalet tanrısı Şamaş tarafından Hammurabi'nin nasıl kral seçildiği anlatılmaktadır. Ayrıca burada Hammurabi; adalet ve doğruluğu tesis ettiğinden, huzur ve refahı getirdiğinden söz etmektedir.

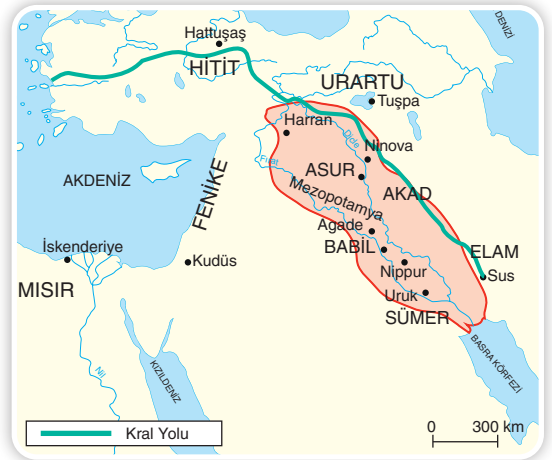
Bu bilgilere göre Hammurabi Kanunları ile ilgili,

- I. Dinî değerlere yer verilmiştir.
- II. Zamanına uygun olarak hazırlanmıştır.
- III. Devrinin en gelişmiş kanunlarıdır.

yargılarından hangilerine ulaşılabilir?

- A) Yalnız I B) Yalnız II C) I ve II
D) II ve III E) I, II ve III

7.



Yukarıda verilen haritaya göre uygarlıkların kuruluşunda;

- I. su kaynakları,
- II. dinî yapı,
- III. coğrafi konum

unsurlarından hangilerinin etkili olduğu söylenebilir?


- A) Yalnız I B) Yalnız II C) Yalnız III
D) I ve III E) I, II ve III

8.

Geniş topraklara sahip Persler, satraplık denilen eyalet sistemini oluşturmuşlardır. Gelişmiş bir posta teşkilatı kuran Persler, Sardes'ten başlayıp başkentleri Sus'a kadar uzanan Kral Yolu'nu yapmışlardır.

Bu bilgilere göre Persler aşağıdakilerden hangisine önem vermişlerdir?

- A) Zanaat, ticaret
- B) Merkezî otorite, ticaret
- C) Savaş, zanaat
- D) Merkezî otorite, zanaat
- E) Ticaret, siyaset



894742

ÖĞRENCİ NO	YANITLAR
0 0 0 0 0 0	1 A B C D E 11 A B C D E
1 1 1 1 1 1	2 A B C D E 12 A B C D E
2 2 2 2 2 2	3 A B C D E 13 A B C D E
3 3 3 3 3 3	4 A B C D E 14 A B C D E
4 4 4 4 4 4	5 A B C D E 15 A B C D E
5 5 5 5 5 5	6 A B C D E 16 A B C D E
6 6 6 6 6 6	7 A B C D E 17 A B C D E
7 7 7 7 7 7	8 A B C D E 18 A B C D E
8 8 8 8 8 8	9 A B C D E 19 A B C D E
9 9 9 9 9 9	10 A B C D E 20 A B C D E



Bu haritaya göre Orta Çağ ile ilgili aşağıdakilerden hangisi söylenebilir?

- A) Ticaret, batıdan doğuya doğru yapılmaktadır.
- B) Ticaret yolları Müslümanların kontrolündedir.
- C) Kürk Yolu'nu sadece Türkler kullanmıştır.
- D) İpek Yolu, Baharat ve Kürk yollarından daha geniş bir ağa sahiptir.
- E) Tüccarlar daha çok İpek Yolu'nu kullanmıştır.

2. Orta Çağ'da Müslümanların atlı okçuları hem atlarının hızı ve çevikliği hem de kullanılan silahların hafifliği sayesinde, Batılı atlı okçulardan daha hızlı ve esnek olmuştur. Franklar, Haçlı Seferlerinde çok sayıda Müslüman ve Türk atlı okçuyla karşılaşmıştır. Hareket kabiliyeti oldukça yüksek olan bu birliklerin başarısını gören Haçlılar, Türk atlı okçularından yararlanmak istemiştir.

Bu bilgilere göre Türk İslam ordularıyla ilgili,

- I. Manevra kabiliyeti yüksektir.
- II. Atlı askerlik yaygındır.
- III. Hristiyanlara karşı her zaman üstün gelmektedir.

yargılarından hangileri söylenebilir?

- A) Yalnız I
- B) Yalnız II
- C) I ve II
- D) II ve III
- E) I, II ve III

3. Her çağ kendi içinde ekonomik faaliyetler doğurmuştur. Bu faaliyetler zamanın verdiği imkânlar etrafında şekillenmiştir.

Buna göre Orta Çağ'da ticari faaliyetlerin yürütüldüğü mekânlar arasında aşağıdakilerden hangisi gösterilemez?

- A) Arasta
- B) Bedesten
- C) Kervansaray
- D) Panayır
- E) İmarethane

4. XI. yüzyılda Bizans ordusunda görev yapan ücretli askerlerin büyük bir kısmı Türklerden oluşmuştur. Peçenek, Kuman ve Uzlardan oluşan bu ücretli Türk birlikleri, kendi komutanlarının idaresinde Bizans ordusu içinde savaşmıştır. Bizans yönetimi, ücretli Türk askerlerini, savaş taktikleri ve ok kullanma konusundaki ustalıkları nedeniyle Anadolu'ya akınlarda bulunan soydaşlarına karşı kullanmıştır. Fakat bu uygulamaları Malazgirt Savaşı sırasında kendi aleyhlerine işlemiş, Bizans ordusu içerisindeki ücretli Türk boyları, Selçukluların tarafına geçmiştir.

Bu bilgilere göre Türkler arasında aşağıdaki düşüncelerden hangisinin güçlü olduğu söylenebilir?

- A) Yayılımcılık
- B) Ulusçuluk
- C) Demokrasi
- D) İslamcılık
- E) Oligarşi

5. Orta Çağ'da ücretli askerlik sistemi birçok devlette görülmüştür. Bizans İmparatorluğu, tarihinin her döneminde ordusunda ücretli askerlere yer vermiştir. Aynı şekilde Orta Çağ Avrupa devletleri ile Sasani İmparatorluğu'nda da bu sistem uygulanmıştır. Sasani ordusu da Türklere komşu olmalarının etkisiyle Türk ve Moğol ordularında olduğu gibi onlu sisteme göre düzenlenmiştir. Değişik etnik gruplardan oluşan Sasani ordusunda; bağlı kavimlerin ve devletlerin gönderdikleri birlikler, ücretli askerler ve savaş esirleri yer almıştır.

Bu bilgilere göre Orta Çağ'da orduların oluşmasında;

- I. ekonomik durum,
- II. yaşanan coğrafya,
- III. topluluklar arası etkileşim

unsurlarından hangilerinin etkili olduğu söylenebilir?

- A) Yalnız I
- B) Yalnız II
- C) I ve II
- D) II ve III
- E) I, II ve III

6. 1215'te İngiltere'de Kral Yurtsuz John ile şehirli halk ve baronlar arasında yapılan Magna Charta Sözleşmesi'nde,

- Kral, meclisin onayını almadan vergi koymayacak.
- Kanunlar eşit olacak, kimse yargılanmadan idam edilmeyecek.

maddeleri yer almıştır.

Bu maddelere göre bu sözleşme ile ilgili,

- Demokratik bir yönetim anlayışı benimsenmiştir.
- İnsan hakları güç kazanmıştır.
- Feodal yönetim zayıflamıştır.

yargılarından hangilerine ulaşılabilir?

- A) Yalnız I B) Yalnız II C) I ve II
D) I ve III E) II ve III

7.

Moğol İmparatorluğu'nun hukuk ve askerlik işlerini düzenleyen kanunlara "Cengiz Han Yasası" veya "Büyük Yasa" denmiştir. Ama bu yasanın tamamı Cengiz Han tarafından oluşturulmuş değildir. Cengiz Han Yasası, nesilden nesile aktarılan Türk ve Moğol törelerinin yazılı hâle getirilerek düzenlenmiş şeklidir. Cengiz Han, kağan seçildiği 1206 yılı kurultayında bu kurallara bazı ilaveler yapmış ve bunları resmen yürürlüğe koymuştur. Otuz üç defter hâlinde düzenlendiği varsayılan bu yasalar, İslamiyet'i kabul eden Moğol hanedanları tarafından da uygulanmıştır.

Bu bilgileri veren Tuğçe Öğretmen, öğrencilerinden Moğol yasalarını yorumlamalarını istemiştir.

Buna göre aşağıdaki öğrencilerden hangisinin yorumunun doğru olduğu söylenemez?

- Anıl: Farklı toplumların katkılarıyla oluşmuştur.
- Efkan: Müslüman Moğolların ihtiyaçlarına cevap vermiştir.
- Erol: Sözlü olarak uygulanmıştır.
- Sude: Cengiz Han tarafından geliştirilmiştir.
- Deniz: Uzun süre kullanılmıştır.

8. Orta Çağ Avrupası'nda siyasi yapıyı şekillendiren ve bu döneme damgasını vuran sistem "feodalizm" olmuştur. Bu sisteme göre siyasi güç; krala ait olup kral, siyasi otoritesini mutlak sadakat koşuluyla ve kontrollü olarak derebeyleriyle paylaşmıştır.

Yalnızca bu bilgilere göre feodal toplumlarda aşağıdakilerin hangisinden söz edilemez?

- Merkezî otoriteden
- Dinsel birliktelikten
- Kültürel gelişmişlikten
- Ekonomik gelişmişlikten
- Monarşik yönetimden

9. İnsanlığın yerleşik yaşama geçmesiyle birlikte kıtlıklar ve kuraklıklarla karşılaşmaya başlanmıştır. Bu kıtlıklar ve kuraklıklar artı ürün ihtiyacını ortaya çıkarmıştır.

Bu ihtiyacın insanları;

- sulama kanalları açma,
- tahıl ambarları kurma,
- parayı kullanma

durumlarından hangileriyle karşı karşıya getirdiği söylenebilir?

- A) Yalnız I B) I ve II C) I ve III
D) II ve III E) I, II ve III

10. Orta Çağ'da Bizans İmparatorluğu'nda sanatçılar imparatorun emrinde çalışmışlardır.

Bu durumun aşağıdakilerden hangisine engel oluşturduğu söylenebilir?

- Siyasi otoritenin güçlenmesine
- Sanatın özgürce gelişmesine
- Ulusal kimliğin oluşmasına
- Dinî yapının korunmasına
- Farklı alanlarda birçok eserin verilememesine



894743

ÖĞRENCİ NO	YANITLAR
1	1 A B C D E 11 A B C D E
2	2 A B C D E 12 A B C D E
3	3 A B C D E 13 A B C D E
4	4 A B C D E 14 A B C D E
5	5 A B C D E 15 A B C D E
6	6 A B C D E 16 A B C D E
7	7 A B C D E 17 A B C D E
8	8 A B C D E 18 A B C D E
9	9 A B C D E 19 A B C D E
10	10 A B C D E 20 A B C D E

1.

- Türkiye kelimesi, ilk olarak VI. yüzyılda Bizans kaynaklarında "Orta Asya" için kullanılmıştır.
- Bizans kaynakları, IX ve X. yüzyıllarda Volga'dan Orta Avrupa'ya kadar uzanan sahaya da Türkiye adını vermiştir.
- XI-XIII. yüzyıllarda Mısır ve Suriye'ye Türkiye denmiştir. Anadolu ise XII. yüzyıldan itibaren Türkiye olarak tanınmaya başlanmıştır.

Bu bilgilere göre Türk adının farklı zamanlarda farklı coğrafyalar için kullanılmasında Türklerin aşağıdaki özelliklerinden hangisinin etkili olduğu savunulabilir?

- Güçlü devletler kurmaları
- Geniş coğrafyalara yayılmaları
- Ordu-millet anlayışına sahip olmaları
- Boylar federasyonu şeklinde yaşamaları
- Çinlilerle mücadele etmeleri

2.

İlk olarak Avrasya'da görülen Türkleri araştıran bilim insanları, bu kadim milletin adını en eski tarihî kaynaklarda aramıştır. Türk adına gerek kaynaklarda gerek araştırmalarda çeşitli anlamlar verilmiştir. Türk adı; Çin kaynaklarına göre "miğfer", Kaşgarlı Mahmut'a göre "olgunluk çağı", A. Wambrey'e (Vambrey) göre "türemek", Ziya Gökalp'a göre "kanun ve nizam sahibi" anlamına gelmektedir. Türk adına, çeşitli anlamlar verilmesine rağmen "güç, kuvvet" anlamına geldiği, 1911'de yayımlanan eski bir Türkçe metinden anlaşılmıştır.

Türklerin tarihte bu kadar büyük bir ilgi görmesinde;

- güçlü bir millet olmaları,
- tarihe damga vurmaları,
- göçebe olarak yaşamaları

durumlarından hangilerinin etkili olduğu söylenebilir?

- Yalnız I
- I ve II
- I ve III
- II ve III
- I, II ve III

3.

Anav Kültürü (MÖ 4000-MÖ 1000)

Anav, günümüzde Aşkabat'ın güneydoğusunda bir yerleşim bölgesidir. Bu yerleşim sahasında yapılan kazılarda ortaya çıkan seramik üç bronz eser örneklerinin, bozkır kökenli bir halka, özellikle de Türklere ait olduğu düşünülmektedir. Orta Asya'nın en eski kültürüdür.

Karasuk Kültürü (MÖ 1200-MÖ 700)

Andronova kültürü ile benzerlik gösteren Karasuk kültürü, adını Yenisey Irmağı'nın bir kolu olan Karasuk Nehri'nden almıştır. Bu kültürün en önemli özelliği, dünyanın pek çok bölgesine göre demiri daha erken işlemeye başlamasıdır. İskit kültürünün oluşturduğu göçebe kültürünün Orta Asya'ya yayılmasını sağlamışlardır.

Bu iki kültürde aşağıdakilerden hangisinin ortak olduğu söylenebilir?

- Madenleri kullanmaları
- Yerleşik yaşam sürmeleri
- Hayvanlardan yararlanmaları
- Topraktan çanak çömlek yapmaları
- Aynı yerde doğmaları

4.



Bu haritaya göre,

- Tarih, Orta Asya'da başlamıştır.
- Farklı insan toplulukları Orta Asya'da yaşamıştır.
- Orta Asya'nın önemli bir bölümü insan yaşamına elverişlidir.

yorumlarından hangileri yapılabilir?

- Yalnız I
- Yalnız II
- I ve II
- I ve III
- II ve III